



مذكرة الصف العاشر

مادة الاجتماعيات

أسئلة امتحانات
وإجاباتها النموذجية

العام الدراسي
2021-2022

الفترة الأولى



وزارة التربية

التوجيه الفني العام للاجتماعيات

امتحان نهاية الفترة الدراسية الأولى

مقرر / تاريخ دولة الكويت

للمصف العاشر

العام الدراسي : ٢٠١٩ / ٢٠٢٠ م

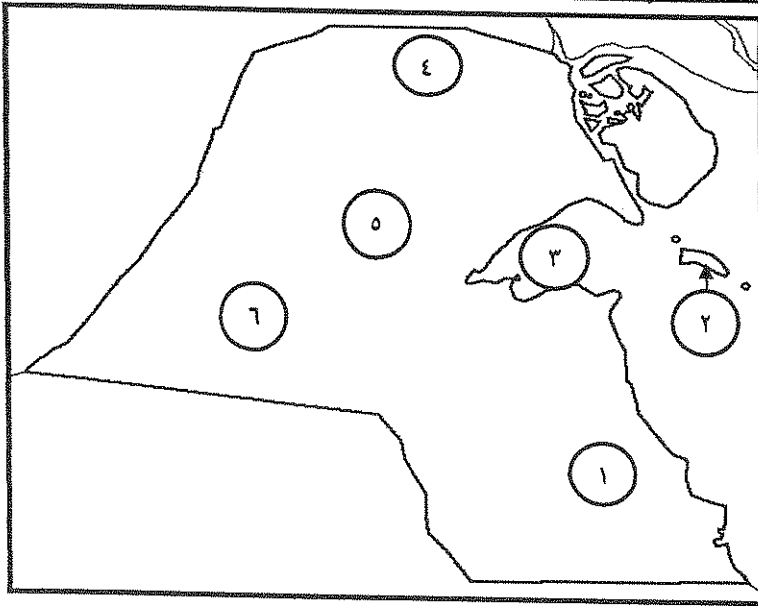
الزمن : ساعتان وربع

عدد الصفحات : (٥)

أجب عن (ثلاثة) أسئلة فقط على أن يكون السؤال الأول منها (إجبارياً)

السؤال الأول الموضوعي (إجباري) ويتكون من (أ - ب - ج - د) :

(أ) أمامك خريطة دولة الكويت الصماء ، أكتب الرقم الدال على كل مما يلي :


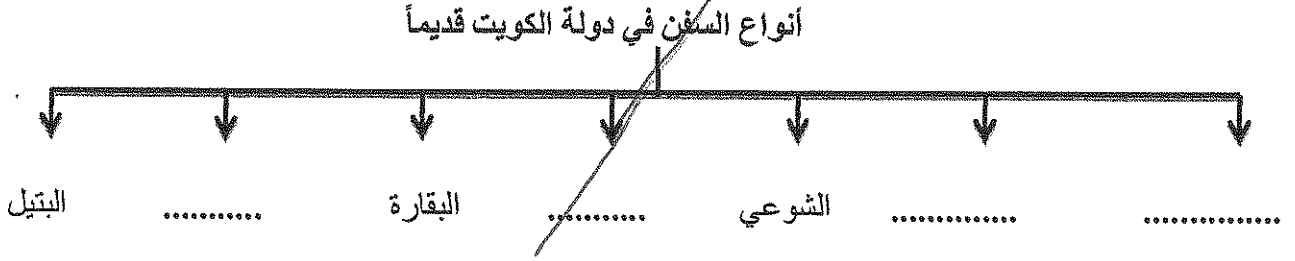


١. سهل الدبدبة على الخريطة يمثل الرقم
٢. كراع المرو على الخريطة يمثل الرقم
٣. منطقة العبدلي يمثلها على الخريطة الرقم
٤. جون الكويت يمثلها على الخريطة الرقم

(ب) اختر للمجموعة (أ) ما يناسبها من المجموعة (ب) بكتابة الرقم المناسب :

الرقم	المجموعة (أ)	الرقم المناسب	المجموعة (ب)
١	وقعت في عهده معركة الصريف .	()	الشيخ صباح الأول بن جابر
٢	كان حليماً كريماً يضرب بكرمه المثل .	()	الشيخ عبدالله الأول بن صباح
٣	ازدهرت الإمارة في أيامه وامتدت تجارتها إلى الهند واليمن وشرق أفريقيا والعراق .	()	الشيخ مبارك الصباح
٤	البداية الحقيقية لظهور الكويت كياناً سياسياً منظماً	()	الشيخ جابر الأول بن عبدالله الصباح
		()	الشيخ محمد بن صباح

(ج) أكمل المخطط السهمي التالي :




(د) أكمل العبارات التالية فيما درست :

١ - الصورة المقابلة تمثل الجزيرة الكويتية التي عثر فيها على الآثار اسمها.....




٢ - الصورة المقابلة تمثل أحد العاملين في حرفة الغوص يسمى

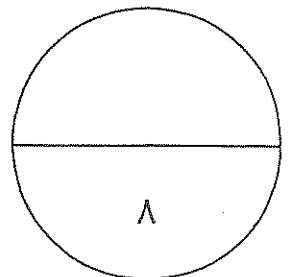


٣ - الصورة المقابلة تمثل إحدى الحرف في دولة الكويت قديماً

تسمى



٤ - الخريطة المقابلة تمثل معركة بحرية بين دولة الكويت وبنو كعب اسمها



السؤال الثاني (اختياري) ويتكون من (أ - ب - ج) :

(أ) اقرأ الفقرة التالية ثم أجب عما يليها من أسئلة :

بعد أن استقر العتوب وأسسوا وطنهم الجديد بالكويت تشكلت واكتملت الهوية الجامعة لهذه القبائل والأسر المهاجرة ومن تبعها من السكان الجدد ، وبعد عملية التأسيس ، كان حتماً على الجميع الانضواء تحت السلطة التي تدير شؤون البلدة .

١ . عرف ما تحته خط :

٢ . اذكر تقسيم المهام بين أسرتي آل الصباح وآل الخليفة بعد استقرار العتوب في موطنهم الأصلي دولة الكويت .

٣ . استقر الحكم لآل الصباح بعد عملية التأسيس التي مرت بثلاث مراحل ،،، اذكر المرحلتين الثانية والثالثة منها .

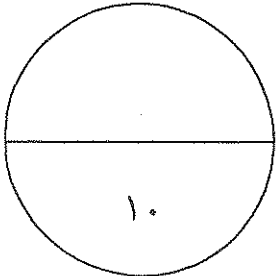
(ب) قارن بين كلاً من :

أوجه المقارنة	الرياح الشمالية الغربية	العواصف الترابية (السرايات)
الفترة الزمنية		
المميزات		

(ج) علل لما يلي :

١ . نقل مركز البريد والتجارة البريطاني من البصرة إلى الكويت عام ١٧٧٥ م .

٢ . كساد تجارة الغوص عن اللؤلؤ في دولة الكويت .



تابع / امتحان مقرر تاريخ دولة الكويت - للصف العاشر - نهاية الفترة الدراسية الأولى - للعام الدراسي ٢٠١٩ - ٢٠٢٠ م

السؤال الثالث (اختياري) ويتكون من (أ - ب - ج) :
(أ) فرق بين كلاً من :

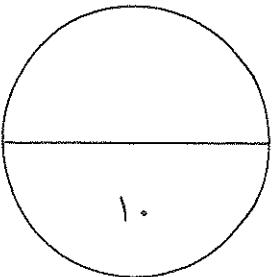
مفهوم الإغلاق (موسم السفر)	مفهوم الدشة (موسم السفر)
وظيفة المجدمي	وظيفة النوكذة

(ب) عدد ثلاث أنواع فقط من المحاصيل التي يزرعها الكويتيون في دولة الكويت .

-
-
-

(ج) أذكر ثلاث عوامل ساعدت على ازدهار صناعة السفن في دولة الكويت قديماً .

-
-
-



تابع / امتحان مقرر تاريخ دولة الكويت - لصف العاشر - نهاية الفترة الدراسية الأولى - للعام الدراسي ٢٠١٩ - ٢٠٢٠ م

السؤال الرابع (اختياري) ويتكون من (أ - ب - ج) :

(أ) دلل على صدق العبارات التالية :

١ . تطور التعليم والصحة في عهد الشيخ مبارك الصباح .

التعليم :
الصحة :

٢ . حرص حكام الكويت على اتخاذ قرارات ذات أبعاد اقتصادية ساعدت على النمو التجاري والاقتصادي للكويت .

•

•

•

(ب) اكتب عن أهم أعمال الحاكم الثالث الشيخ جابر الأول بن عبدالله الصباح (١٨١٤م - ١٨٥٩م) .

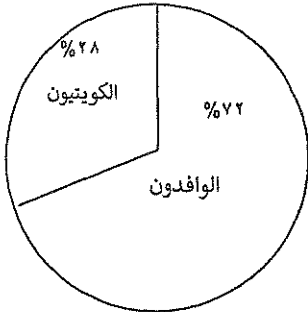
•

•

•

(ج) لاحظ الدائرة البيانية التي أمامك ثم أجب عما يليه من أسئلة :

١ . استخرج حقيقة من الدائرة البيانية المقابلة .

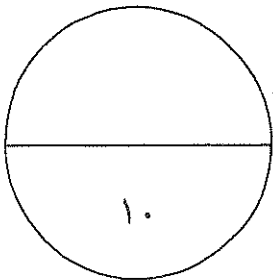


.....
.....

٢ . قلة عدد السكان " الوافدين " في دولة الكويت خلال عام ١٩٩٠م .

نسبة السكان في دولة الكويت عام ١٩٩٠م

.....
.....



انتهت الأسئلة



وزارة التربية

التوجيه الفني العام للاجتماعيات

امتحان نهاية الفترة الدراسية الأولى

مقرر / تاريخ دولة الكويت

لصف العاشر

العام الدراسي : ٢٠٢٠/٢٠١٩

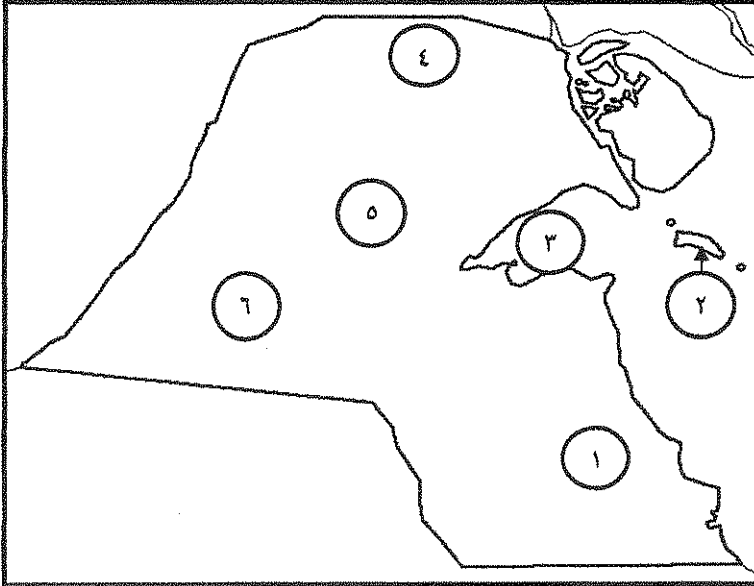
الزمن : ساعتان وربع

عدد الصفحات : (٥)

أجب عن (ثلاثة) أسئلة فقط على أن يكون السؤال الأول منها (إجبارياً)

السؤال الأول الموضوعي (إجباري) ويتكون من (أ - ب - ج - د) : (١/٢ نصف درجة × ١٦ = ٨ درجة)

(أ) أمامك خريطة دولة الكويت الصماء ، أكتب الرقم الدال على كل مما يلي :



١. سهل الدبدبة على الخريطة يمثل الرقم ... ٦ .. ص ٢٥
٢. كراع المرو على الخريطة يمثل الرقم .. ٥ .. ص ٢٥
٣. منطقة العبدلي يمثلها على الخريطة الرقم .. ٤ .. ص ٢٥
٤. جون الكويت يمثلها على الخريطة الرقم .. ٣ .. ص ٢٥

(ب) اختر للمجموعة (أ) ما يناسبها من المجموعة (ب) بكتابة الرقم المناسب :

الرقم	المجموعة (أ)	الرقم المناسب	المجموعة (ب)
١	وقعت في عهده معركة الصريف . ص ١٠٦	(٤)	الشيخ صباح الأول بن جابر
٢	كان حليماً كريماً يضرب بكرمه المثل . ص ٧٦	(٣)	الشيخ عبدالله الأول بن صباح
٣	ازدهرت الإمارة في أيامه وامتدت تجارتها إلى الهند واليمن وشرق أفريقيا والعراق . ص ٧٣	(١)	الشيخ مبارك الصباح
٤	البداية الحقيقية لظهور الكويت كياناً سياسياً منظماً ص ٧٣	(٢)	الشيخ جابر الأول بن عبدالله الصباح
		(-)	الشيخ محمد بن صباح



(ج) أكمل المخطط السهمي التالي :

أنواع السفن في دولة الكويت قديماً ص ٤٤



(د) أكمل العبارات التالية فيما درست :


١ - الصورة المقابلة تمثل الجزيرة الكويتية التي عثر فيها على الآثار اسمها فيلكا ... ص ٥٩



٢ - الصورة المقابلة تمثل أحد العاملين في حرفه الغوص يسمى ... الغيص .. ص ٤٨



٣ - الصورة المقابلة تمثل إحدى الحرف في دولة الكويت قديماً تسمى .. القفاص .. ص ٥٥



٤ - الخريطة المقابلة تمثل معركة بحرية بين دولة الكويت وبنو كعب اسمها .. الرقة ... ص ٧٤



وزارة التربية
التوجيه الفني العام للإجتماعيات

السؤال الثاني (اختياري) ويتكون من (أ - ب - ج) :

(أ) اقرأ الفقرة التالية ثم أجب عما يليها من أسئلة :

بعد أن استقر العتوب وأسسوا وطنهم الجديد بالكويت تشكلت واكتملت الهوية الجامعة لهذه القبائل والأسر المهاجرة ومن تبعها من السكان الجدد ، وبعد عملية التأسيس ، كان حتماً على الجميع الانضواء تحت السلطة التي تدير شؤون البلدة .
ص ٧٠

١ . عرف ما تحته خط :
(درجة)

هم مجموعة من العشائر أو الأسر التي تنتمي إلى عدة قبائل من أبرزها قبيلة عنزة . ص ٦٩

٢ . اذكر تقسيم المهام بين أسرتي آل الصباح وآل الخليفة بعد استقرار العتوب في موطنهم الأصلي دولة الكويت ص ٧١

(درجتان)

آل الصباح (الحكم) - آل الخليفة (شؤون التجارة) .

٣ . استقر الحكم لآل الصباح بعد عملية التأسيس التي مرت بثلاث مراحل ،،، أذكر المرحلتين الثانية والثالثة منها ص ٧١

(درجتان)

المرحلة الأولى : الهجرة من نجد مع بقية الأسر الكويتية وإقامتهم فيها .

المرحلة الثانية : التحالف الثلاثي وتوزيع المهام .

المرحلة الثالثة : اختيار آل الصباح لحكم الكويت وانتهاء التحالف الثلاثي .

(٣ درجات)

(ب) قارن بين كلاً من :

أوجه المقارنة	الرياح الشمالية الغربية ص ٣٤	العواصف الترابية (السرايات) ص ٣٤
الفترة الزمنية	تهب معظم أيام السنة (نصف درجة)	تهب في أواخر الربيع وأوائل الصيف (نصف درجة)
المميزات	رياح جافة بفعل المرتفع السيبيري المتمركز في شمال القارة الآسيوية ولها أثر واضح في خفض درجة الحرارة خاصة في فصل الصيف ، لكنه يصبح قارس البرودة في فصل الشتاء . (درجة)	رياح تثير الغبار مصحوبة بعواصف مصحوبة عادة بعواصف رعدية يسقط بسببها المطر الشديد في أواخر الربيع وأوائل الصيف ، ويطلق عليها السرايات . (درجة)

(درجتان)

(ج) علل لما يلي :

١ . نقل مركز البريد والتجارة البريطاني من البصرة إلى الكويت عام ١٧٧٥ م . ص ٨٩

بسبب تأثر المركز البريطاني بالصراع القائم بين القوتين في المنطقة بين الدولة الفارسية والدولة العثمانية ما بين (١٧٧٥ م - ١٧٧٩ م) الذي نتج عنه الحصار الفارسي للبصرة عام ١٧٧٥ م .

٢ . كساد تجارة الفوس عن اللؤلؤ في دولة الكويت . ص ٤٦

بسبب انهيار سوق اللؤلؤ العالمي عام ١٩٢٨ م .



السؤال الثالث (اختياري) ويتكون من (أ - ب - ج) :

(٤ درجات)

(أ) فرق بين كلاً من :

مفهوم الإغلاق (موسم السفر) ص ٤٩	مفهوم الدشة (موسم السفر) ص ٤٩
نهاية موسم السفر وتعني بإغلاق موسم السفر وتكون نهاية شهر (مايو) .	بداية موسم السفر وتعني دخول البحر وبداية الدشة تكون في الشهر الثامن (أغسطس) .
وظيفة المجدمي ص ٤٧	وظيفة النوخذة ص ٤٧
هو لقب كان يطلق على رئيس البحارة والمسئول عن إدارة السفينة من الداخل .	قائد السفينة وربانها والمسئول عنها وعن طاقمها والمسئول عن تحديد أماكن الغوص والبحث عن مزارع اللؤلؤ (الهيرات) ، ويجب أن تتوفر في النوخذة القدرة على معرفة المسالك والطرق ، والإلمام بالاتجاهات البحرية ، وعليه اتخاذ جميع القرارات ، وهو صاحب الحق في إعطاء إذن للبحارة بمغادرة السفينة ، وضمان سلامة طاقمها .

(ب) عدد ثلاث أنواع فقط من المحاصيل التي يزرعها الكويتيون في دولة الكويت . ص ٥٢ (٣ درجات)
الخضراوات بجميع أنواعها - الحبوب كالقمح والشعير - والأغلاف كالبرسيم (الجت) وغيرها - أشجار الأثل - أشجار السدر

(ج) أذكر ثلاث عوامل ساعدت على ازدهار صناعة السفن في دولة الكويت قديماً . ص ٤٣ (٣ درجات)
(يكفي بذكر ٣ نقاط)

- هبوب الرياح الموسمية على منطقة الخليج العربي والتي ساعدت على دفع السفن نحو شواطئ الهند وشرق آسيا .
- توفر الأيدي العاملة لصناعة السفن .
- تمتع الكويت بواجهة بحرية طويلة تمتد من شمالها إلى جنوبها ويتخللها العديد من التعرجات ، فضلاً عن وجود جون الكويت شمالاً ، وانتشار العديد من الجزر في مياها الإقليمية ووجود النقع والعمائر الساحلية (مخازن المواد المستخدمة في صناعة السفن) .
- براعة الأساتذة والقلائف ، فالأستاذ هو الذي يقوم بتصميم السفينة ويأتي القلاف في المرتبة الثانية وهو الذي يقوم بعملية إعداد المواد اللازمة للصناعة ثم عملية بناء السفينة نفسها .
- توفر مصادر المواد المستخدمة في صناعة السفن .
- الموقع الجغرافي لدولة الكويت .



السؤال الرابع (اختياري) ويتكون من (أ - ب - ج) :

(أ) دلل على صدق العبارات التالية :

١ . تطور التعليم والصحة في عهد الشيخ مبارك الصباح . ص ٩٦
التعليم : أنشئت المدرسة المباركية عام ١٩١١م وكانت أول المدارس النظامية الأهلية .
الصحة : وافق على تأسيس أول مستشفى عام ١٩١١م والذي أطلق عليه المستشفى الأمريكي .

٢ . حرص حكام الكويت على اتخاذ قرارات ذات أبعاد اقتصادية ساعدت على النمو التجاري والاقتصادي للكويت . ص ٨٠
(يكتفي بذكر ٣ نقاط)
(٣ درجات)


- قلة الضرائب على البضائع القادمة للكويت .
- تشجيع بناء سفن الغوص وتأمين طرق التجارة المارة عبر أراضيها ، حيث أصبحت الكويت سوقاً رائجاً لسكان البادية ووسط نجد .
- اجتذاب الوكالات التجارية التابعة للشركات الأوربية العاملة في الخليج العربي ، حيث انتقلت الوكالة البريطانية من البصرة إلى الكويت مرتين ، الأولى عام ١٧٩٣م والثانية ١٨٢١م .
- لعب التجار الكويتيون دور الوسيطاء التجاريين ، مما ساعد على بناء علاقات تجارية بين الكويت ومناطق دول الجوار .
- تعززت نزعة الاستقلال لدى حكام الكويت وتأكيد كيانتهم المستقل مستندين في ذلك إلى الاستقرار الأمني والسياسي والاقتصادي ، فضلاً عما عرف عن أهل الكويت من سماحة وصدق وأمانة الأمر الذي ساعد على بروز كيانتها واستقبالها للمزيد من الهجرات والسكان .

(ب) اكتب عن أهم أعمال الحاكم الثالث الشيخ جابر الأول بن عبدالله الصباح (١٨١٤م - ١٨٥٩م) .

ص ٧٦

- بناء السور الثاني عام ١٨١٤م . - رفض رفع الكويت للراية الإنجليزية وإقامة بعض المباني على أراضيها .
- ساعد العثمانيين على إعادة البصرة بعد قيام بعض القبائل فيها بالخروج على السلطة العثمانية .
- رفض عرض مقدم من شركة الهند الشرقية الإنجليزية لإقامة محطة فحم لدولة الكويت عام ١٨٤١م .

(ج) لاحظ الدائرة البيانية التي أمامك ثم أجب عما يليه من أسئلة : ص ٣٧



نسبة السكان في دولة الكويت عام ١٩٩٠م

- ١- استخراج حقيقة من الرسم البياني المقابل .
عدد الوافدين أكبر من عدد المواطنين
- (أي حقيقة يراها المصحح مناسبة)

(درجة واحدة)

٢- علل - قلة عدد السكان " الوافدين " في دولة الكويت خلال عام ١٩٩٠م .

بسبب العدوان والاحتلال العراقي على دولة الكويت وما تبع ذلك من عودة كبيرة للوافدين من العرب وغيرهم إلى أوطانهم .

(درجة واحدة)



انتهت الأسئلة

العام الدراسي (٢٠١٨ / ٢٠١٩ م)

امتحان نهاية الفترة الدراسية الأولى



الزمن : ساعتان وربع

لمقرر / تاريخ دولة الكويت

وزارة التربية

عدد الأوراق : (٥)

(للسف العاشر)

التوجيه الفني العام للاجتماعيات

أجب عن (ثلاثة أسئلة) فقط على أن يكون السؤال الأول منها (إجباريا) :

السؤال الأول / الموضوعي (إجباري) ويتكون من (أ - ب - ج - د) :


(أ) أكمل العبارات التالية بما يناسبها فيما درست :



١- الجزء المظلل على الخريطة المقابلة يمثل وادياً يحد دولة الكويت غرباً اسمه



٢- الجزيرة الكويتية التي توجد بها الآثار القديمة في الصورة المقابلة تسمى



٣- السفينه الموجودة في شعار دولة الكويت الذي أمامك تسمى



٤- المهنة التي يمتنها العامل في الصورة المقابلة تسمى

ب) أكتب المفاهيم أو المصطلحات الدالة على العبارات التالية :

- ١- (.....) منابت المحار / المحتوي على اللؤلؤ .
- ٢- (.....) ما يوضع على ظهر الدابة وتوضع فيه حاجات الراكب .
- ٣- (.....) الصيد بالإضاءة حيث يتجمع السمك حول سراج يحمله الصياد فيقوم بضربة بألة حادة كالسيف أو عصا في نهايتها حربة .
- ٤- (.....) رياح تهب على دولة الكويت في أواخر الربيع وأوائل الصيف فتثير الغبار مصحوبة عادة بعواصف رعدية يسقط بسببها المطر الشديد .

تابع / امتحان مقرر تاريخ دولة الكويت - للصف العاشر - نهاية الفترة الدراسية الأولى - للعام الدراسي ٢٠١٨ - ٢٠١٩ م

تابع / السؤال الأول (إجباري) :

(ج) ضع خطأ تحت الخيار الصحيح من بين الخيارات التي تلي كل عبارة :

١- المنطقة التي وقعت فيها معركة ذات السلاسل بين المسلمين والفرس عام ١٢ هجرية :

كازمة	- الصبية	- أم العيش	- الجهراء
-------	----------	------------	-----------

٢- العامل الذي يقوم بتنجيد وصناعة المساند والفرش مستخدماً القطن :

الصفار	- الحداد	- الأنداف	- النجار
--------	----------	-----------	----------

٣- العام الذي أجري فيه أول تعداد رسمي موثق لسكان دولة الكويت :

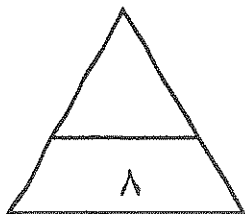
١٩٥٥ م	- ١٩٥٦ م	- ١٩٥٧ م	- ١٩٥٨ م
--------	----------	----------	----------

٤- أكبر الجزر الكويتية والتي تمثل ٥% من المساحة الإجمالية لدولة الكويت :

بوبيان	- عوهه	- وربة	- فيلكا
--------	--------	--------	---------

(د) اختر للمجموعة (أ) ما يرتبط بها من المجموعة (ب) بوضع الرقم المناسب :

م	المجموعة (أ)	الرقم المناسب	المجموعة (ب)
١	تقدمت التجارة في عهده بشكل كبير وألغى الرسوم احتراماً لرغبة أبناء شعبه	الشيخ مبارك الصباح
٢	ساعد العثمانيين في حملة "مدحت باشا" على إقليم الإحساء عام ١٨٧١م	الشيخ جابر الأول
٣	وقعت معركة الرقة في عهده عام ١٧٨٣م	الشيخ صباح الثاني بن جابر
٤	دعم الأمير "عبد العزيز آل سعود" عسكرياً وسانده في معاركه لاستعادة ملك آبائه	الشيخ عبدالله بن صباح الثاني
		الشيخ عبد الله الأول



الدرجة فقط

السؤال الثاني (اختياري) ويتكون من (أ - ب - ج) :

(أ) فرّق بين كل مما يلي :

الأستاذ	القلاف

(ب) دلل على صحة العبارات التالية :

١- لمنطقة الصبية قيمة وأهمية أثرية كبيرة .

..... -
..... -

٢- تطور (التعليم والصحة) في الكويت في عهد الشيخ مبارك الصباح .

- التعليم :
.....
- الصحة :
.....

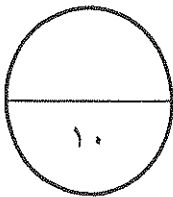
(ج) أجب عن الأسئلة التالية :

١- عدّد العوامل التي ساعدت على نمو وازدهار دولة الكويت تحت حكم آل الصباح .

.....-
.....-

٢ - علل - أهمية الموقع الاستراتيجي لدولة الكويت بين دول العالم .

.....-
.....-



الدرجة فقط

السؤال الثالث (اختياري) ويتكون من (أ - ب - ج) :

(أ) اقرأ الفقرة التالية ثم أجب عما يليها من أسئلة :

"الكويت بلد صحراوي يعاني من شح المياه وارتفاع درجة الحرارة أغلب أيام السنة إلى جانب عدم خصوبة التربة ، لكن على الرغم من تلك الصعوبات فقد تكيف الكويتيون قديماً مع البيئة المحيطة بهم وتغلبوا عليها"

١- ضع عنواناً للفقرة .

٢- دال على صحة ما تحته خط .

٣- عدد أهم المناطق الزراعية في دولة الكويت قديماً .

(ب) أكتب النتائج المترتبة على كل من :

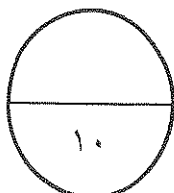
.....	١- ارتباط الكويت بنفوذ بني خالد .
.....	٢- أثر احتلال العدوان العراقي لدولة الكويت عام ١٩٩٠ م على عدد السكان .

(ج) علل لما يلي :

١- الإنهيار التدريجي للاستعمار البرتغالي في منطقة الخليج العربي .

٢- اختيار الشيخ صباح الأول حاكماً لدولة الكويت .

٣- حرص بريطانيا على إبقاء اتفاقية الحماية للكويت عام ١٨٩٩ م سرية .



الدرجة نقط

السؤال الرابع (اختياري) ويتكون من (أ - ب - ج) :

(أ) قارن بين كل من :

أوجه المقارنة	الرياح الجنوبية الشرقية (الكوس)	رياح السموم
مميزاتها المناخية
أثرها في فصل الصيف



(ب) لاحظ الخريطة التي أمامك ثم أجب عما يليها من أسئلة :

- أرسم أسهم على الخريطة المقابلة توضح (خط سير هجرة العتوب) من موطنهم الأصلي (الهدار) إلى محطة الاستقرار الأولى (قطر) .
- عزّف العتوب :

.....
.....

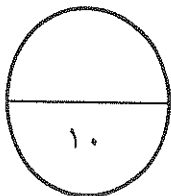
(ج) عدد كل مما يلي :

- الأسس التي حددها (الفرمان العثماني) حول علاقة الكويت بالدولة العثمانية .

.....
.....

- العوامل التي ساعدت على ازدهار صناعة السفن في دولة الكويت .

.....
.....



الدرجة فقط

انتهت الأسئلة

العام الدراسي (٢٠١٨ / ٢٠١٩ م)

الزمن : ساعتان وربع

عدد الأوراق : (٥)

امتحان نهاية الفترة الدراسية الأولى

لمقرر / تاريخ دولة الكويت

(للصف العاشر)

نموذج الإجابة



وزارة التربية

التوجيه الفني العام للاجتماعيات

أجب عن (ثلاثة أسئلة) فقط على أن يكون السؤال الأول منها (إجبارياً) :

السؤال الأول / الموضوعي (إجباري) ويتكون من (أ - ب - ج - د) : (لكل سؤال نصف درجة = ٨ درجات)

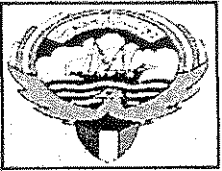
(أ) أكمل العبارات التالية بما يناسبها فيما درست :



١- الجزء المظلل على الخريطة المقابلة يمثل وادياً يحد دولة الكويت غرباً اسمه وادي الباطن
ص ٢٥



٢- الجزيرة الكويتية التي توجد بها الآثار القديمة في الصورة المقابلة تسمى فيلكا
ص ٥٩



٣- السفينة الموجودة في شعار دولة الكويت الذي أمامك تسمى سفينة البوم
ص ٤٥



٤- المهنة التي يمتنها العامل في الصورة المقابلة تسمى الغيص
ص ٤٧



(ب) أكتب المفاهيم أو المصطلحات الدالة على العبارات التالية :

١- (الهيرات) منابت المحار / المحتوي / على اللؤلؤ .
ص ٤٦

٢- (العدول - العدل) ما يوضع على ظهر الدابة وتوضع فيه حاجات الراكب .
ص ٥٥

٣- (القمبار) الصيد بالإضاءة حيث يتجمع السمك حول سراج يحمله الصياد فيقوم بضربة بالة حادة كالسيف أو عصا في نهايتها حربة .
ص ٤٣

٤- (السرايات أو) رياح تهب على دولة الكويت في أواخر الربيع وأوائل الصيف فتثير الغبار مصحوبة عادة بعواصف الترابية بعواصف رعدية يسقط بسببها المطر الشديد .
ص ٣٤



التوجيه الفني العام للاجتماعيات

تابع / السؤال الأول (إجباري) :

(ج) ضع خطاً تحت الخيار الصحيح من بين الخيارات التي تلي كل عبارة :

١- المنطقة التي وقعت فيها معركة ذات السلاسل بين المسلمين والفرس عام ١٢ هجرية : ص ٦٠

كازمة	- الصبية	- أم العيش	- الجهراء
-------	----------	------------	-----------

٢- العامل الذي يقوم بتنجيد وصناعة المساند والفرش مستخدماً القطن : ص ٥٥

الصفار	- الحداد	- النداف	- النجار
--------	----------	----------	----------

٣- العام الذي أجري فيه أول تعداد رسمي موثق لسكان دولة الكويت : ص ٢٦

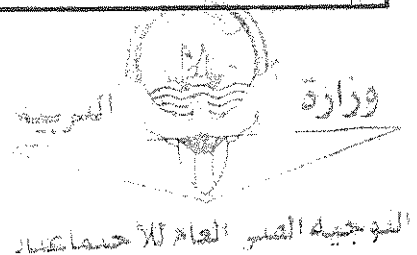

١٩٥٥ م	- ١٩٥٦ م	- ١٩٥٧ م	- ١٩٥٨ م
--------	----------	----------	----------

٤- أكبر الجزر الكويتية والتي تمثل ٥% من المساحة الإجمالية لدولة الكويت : ص ٢٨

بويان	- عوهه	- وربة	- فيلكا
-------	--------	--------	---------

(د) اختر للمجموعة (أ) ما يرتبط بها من المجموعة (ب) بوضع الرقم المناسب :

م	المجموعة (أ)	الرقم المناسب	المجموعة (ب)
١	تقدمت التجارة في عهده بشكل كبير وألغى الرسوم احتراماً لرغبة أبناء شعبه . ص ٧٧	(٤)	الشيخ مبارك الصباح
٢	ساعد العثمانيين في حملة "مدحت باشا" على إقليم الإحساء عام ١٨٧١ م . ص ٧٧	(-)	الشيخ جابر الأول
٣	وقعت معركة الرقة في عهده عام ١٧٨٣ م . ص ٧٣	(١)	الشيخ صباح الثاني بن جابر
٤	دعم الأمير "عبد العزيز آل سعود" عسكرياً وسانده في معاركه لاستعادة ملك أبيانه . ص ١٠٥	(٢)	الشيخ عبدالله بن صباح الثاني
		(٣)	الشيخ عبد الله الأول



السؤال الثاني (اختياري) ويتكون من (أ - ب - ج) :

(درجتين)

(أ) فرّق بين كل مما يلي :

الاستاذ	ص ٤٣	الفلان	ص ٤٣
	هو الذي يقوم بتصميم السفينة.	هو الذي يقوم بعملية إعداد المواد اللازمة لصناعة السفينة ثم عملية بناء السفينة.	

(ب) دال على صحة العبارات التالية :

(درجتين ويكتفى بنقطتين)

١- لمنطقة الصبية قيمة وأهمية أثرية كبيرة . ص ٥٨

- إذ أنها تحتضن مئات المواقع الأثرية التي برهنت على وجود حضارة العبيد القديمة /
- والعثور على أقدم القرى السكنية في بحرة وطبيخ شمال الصبية / وأبار المياه القديمة في المنطقة والعثور على
- جرار فخارية / والعثور على الرحي الحجرية التي تستخدم في طحن الغلال / وأدوات الغزل وحياسة القماش /
- ومسكن بيضاوية الشكل / العثور على المدافن الركامية ذات الأشكال المختلفة الدائرية والمستطيلة .

(درجتين)

٢- تطور (التعليم والصحة) في الكويت في عهد الشيخ مبارك الصباح . ص ٩٦

- التعليم : أنشئت المدرسة المباركية في عهده عام ١٩١١ م وكانت أول المدارس النظامية الأهلية .
- الصحة : وافق على تأسيس أول مستشفى عام ١٩١١ م والذي أطلق عليها المستشفى الأمريكي .

(ج) أجب عن الأسئلة التالية :


١- عدّد العوامل التي ساعدت على نمو وازدهار دولة الكويت تحت حكم آل الصباح . ص ٨١ (درجتين ويكتفى بنقطتين)

- موقع الكويت الاستراتيجي على الجزء الغربي من الخليج العربي والجزء الشمالي الشرقي لشبه الجزيرة العربية .
- طبيعة نظام الحكم المعتمد على العدل والشورى والأمن وهو أمر هام لنهضة وتطور البلاد .
- وجود علاقات متوازنة مع القوى المجاورة .
- التسهيلات التي كانت تمنح لتجار البادية (تجارة المسابرة) مما جعل الكويت المقر الرئيسي للبضائع داخل الجزيرة العربية .
- النظام الاقتصادي وتوزيع المهام ما بين الغوص ونقل التمور وتجارة البادية .
- والأمانة التي كان يتحلّى بها التجار والعاملون .
- الصفات التي تميز أهل الكويت من التسامح والانفتاح على الآخرين .

(درجتين ويكتفى بنقطتين)

٢- علل - أهمية الموقع الاستراتيجي لدولة الكويت بين دول العالم . ص ٢٢

- موقعها الذي يمثل النهاية الطبيعية للطريق الملاحي البحري والتجاري ، الواقع على طريق الهند ومنطقة الشرق الأقصى .
- تمثل دولة الكويت البوابة والمخزل الطبيعي لشمال شرق الجزيرة العربية ، وتعدّ مركزاً لتجارة السكان الوافدين عليها من نجد والإحساء وبادية الشام ، وتصريف بضائعهم منها .
- شهرتها بأنها منطقة (ترانزيت) ، أو منطقة لتجارة العبور قليلة الضرائب .
- نشاط دولة الكويت البحري والتجاري ، فهي أحد أهم الموانئ في شمال إقليم الإحساء خاصة مع ظهورها البحري وملحقاتها من الجزر .
- يميّز الكويتيون بالمهارة في نقل التجارة بين موانئ الخليج وسواحل الهند والشرق الأفريقي



السؤال الثالث (اختياري) ويتكون من (أ - ب - ج) :

ص ٥٢

(أ) اقرأ الفقرة التالية ثم أجب عما يليها من أسئلة :

"الكويت بلد صحراوي يعاني من شح المياه وارتفاع درجة الحرارة أغلب أيام السنة إلى جانب عدم خصوبة التربة ، لكن على الرغم من تلك الصعوبات فقد تكيف الكويتيون قديماً مع البيئة المحيطة بهم وتغلبوا عليها"

درجة واحدة

- ١- ضع عنواناً للفقرة .
(أي عنوان مناسب لموضوع الفقرة)
- ٢- دلل على صحة ما تحته خط .
احترف الكويتيون مهنة الزراعة بقصد الربح واكتساب الرزق / قاموا بزراعة النباتات التي تتلاءم مع البيئة .
استغلوا مياه الأمطار القليلة / استخدموا مياه الآبار السطحية المتوفرة / قاموا بزراعة بعض الخضراوات مثل الطماطم والبطاطس وغيرها .
- ٣- عدد أهم المناطق الزراعية في دولة الكويت قديماً .
الدمنة (السالمية) / الفحيحيل / المنقف / الفنتاس / أبو حليفة / الشعيبة / الجهراء .

درجة (ويكتفى بمنطقتين)

درجتين (يكتفى بنقطة واحدة)

(ب) أكتب النتائج المترتبة على كل من :

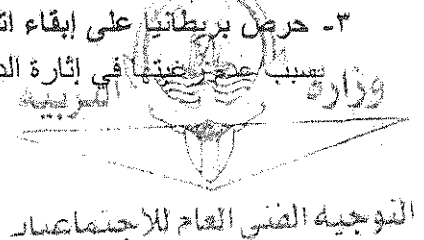

١- ارتباط الكويت بنفوذ بني خالد .	ص ٧٢	- استطاعت الكويت أن تتمتع بمزيد من الأمن والرخاء/ وأن تنجو من كثير من التهديدات والأخطار لمختلف القوى الإقليمية التي كانت موجودة آنذاك .
٢- أثر احتلال العدوان العراقي لدولة الكويت عام ١٩٩٠م على عدد السكان .	ص ٣٧	- تعرض وضع السكان لتغيرات كبيرة وعودة كبيرة للوافدين من العرب وغيرهم إلى أوطانهم .

(ج) علل لما يلي :

- ١- الإتهيار التدريجي للاستعمار البرتغالي في منطقة الخليج العربي . ص ٨٦
- بسبب المنافسة التجارية بينه وبين الهولنديين والإنجليز .
- جهود اليعاربة في عمان ، التي ساهمت في تصفية الوجود البرتغالي في الخليج وطردهم من المنطقة .
- وقوع البرتغال نفسها تحت الاحتلال الإسباني .

- ٢- اختيار الشيخ صباح الأول حاكماً لدولة الكويت . ص ٧٠
سماته الشخصية من شجاعة وحكمة / كان لوالده الزعامة على قومه منذ أن كانوا في نجد .
كان مقيماً طوال أيام العام في الكويت / عمله في الصحراء خلافاً للبقية الذين كانوا يعملون في البحر .

- ٣- حرص بريطانيا على إبقاء اتفاقية الحماية للكويت عام ١٨٩٩م سرية . ص ١٠٢
سبب حرصها على إثارة الدولة العثمانية ، أو خلق توتر جديد بينها وبين القوى الأوروبية .



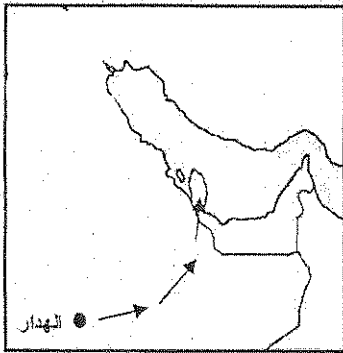
النوعية الفني العام للاجتماعيات

السؤال الرابع (اختياري) ويتكون من (أ - ب - ج) :

ص ٣٤

(أ) قارن بين كل من: (٤ درجات)

أوجه المقارنة	الرياح الجنوبية الشرقية (الكوس)	رياح السموم
مميزاتها المناخية	رياح رطبة دافئة تهب من الجنوب الشرقي وتتأثر في المنخفض السوداني .	رياح جافة جداً تهب في الظهيرة وتنخفض معها الرطوبة النسبية ودرجة حرارتها عالية ..
أثرها في فصل الصيف	تتسبب في رفع درجة الحرارة وتزيد من نسبة الرطوبة في فصل الصيف .	ترفع درجات الحرارة إلى مستوى عالٍ جداً في فصل الصيف وإذا كانت هذه الرياح نشطة فإنها تثير الأتربة والرمال .



(ب) لاحظ الخريطة التي أمامك ثم أجب عما يليها من أسئلة : ص ٦٩

- ١- أرسم أسهم على الخريطة المقابلة توضح (خط سير هجرة العنوب) من موطنهم الأصلي (الهدار) إلى محطة الاستقرار الأولى (قطر) (درجة واحدة)

٢- عرّف العنوب :

- *مجموعة من العشائر أو الأسر التي تنتمي إلى عدة قبائل من أبرزها قبيلة عنزة ، تلك القبيلة العربية الكبرى التي كانت تستوطن منطقة نجد بشبه الجزيرة العربية . (درجة واحدة)

(ج) عدد كل مما يلي :

- ١- الأسس التي حددها (الفرمان العثماني) حول علاقة الكويت بالدولة العثمانية . ص ٩٠
 - شيخ الكويت مستقل في شؤونه الداخلية .
 - منح شيخ الكويت لقب قائم مقام .
 - أهالي الكويت لا يلتزمون بدفع رسوم أو ضرائب للباب العالي .
 - إلزام السفن الكويتية برفع العلم العثماني مع إعفاء السفن الكويتية من دفع أي رسوم .
- ٢- العوامل التي ساعدت على ازدهار صناعة السفن في دولة الكويت . ص ٤٣ (ويكتفى بنقطتين فقط)
 - هبوب الرياح الموسمية على منطقة الخليج العربي ، والتي ساعدت على دفع السفن نحو شواطئ الهند وشرق آسيا .
 - توفر الأيدي العاملة لصناعة السفن .
 - تمتع الكويت بواجهة بحرية طويلة ويتخللها العديد من الترعجات ، فضلاً عن وجود جون الكويت شمالاً وشرقاً .
 - وانتشار العديد من الجزر في مياهها الإقليمية ، ووجود النقع والعمائر الساحلية .
 - زراعة الأصداف والقلايف .
 - توفر مصادر المواد المستخدمة في صناعة السفن .





وزارة التربية
التوجيه الفني العام للإجتماعيات

امتحان نهاية الفترة الدراسية الأولى
مادة / تاريخ الكويت
الصف العاشر

العام الدراسي
2018 / 2017 م
الزمن / ساعتان وربع
عدد الصفحات (5)

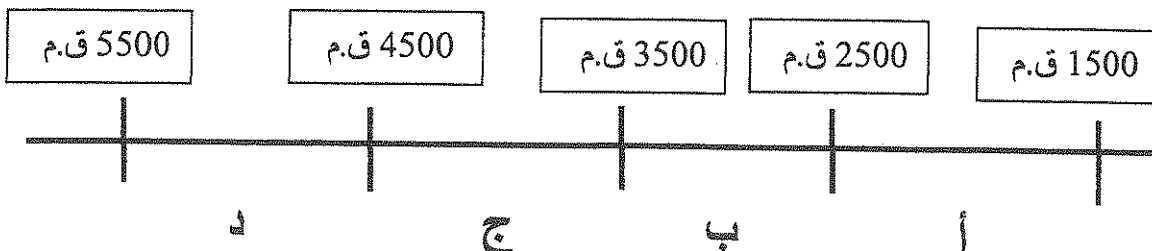
• أجب عن ثلاث أسئلة مما يلي على أن يكون السؤال الأول منها (إجباري) :
السؤال الأول (إجباري) ويتكون من (أ - ب - ج - د)

(أ) أكمل العبارات التالية بما يناسبها فيما درست :

1. الشيخ الذي تم في عهده أول تعداد للسكان في دولة الكويت يسمى
2. المعركة التي وقعت بين المسلمين والفرس عام 12 هجرية على أرض الكويت تسمى
3. نسبة المساحة التي تشغلها جزيرة بوبيان من إجمالي مساحة الكويت تبلغ %
4. العام الذي وقعت دولة الكويت إتفاقية حماية مع بريطانيا عام

(ب) ضع خطا تحت الخيار الصحيح من بين الخيارات التي تلي كل عبارة :

- 1- سهل يمتد من جون الكويت باتجاه الجنوب موازيا لخط الساحل :
(الدبديه - واره - الروضتين - برقان)
- 2- طريق الحرير أحد أهم طرق التجارة الدولية في العالم القديم ويبدأ من دولة :
(الصين - الهند - أندونيسيا - عمان)
- 3- الشهر الذي يبدأ به موسم الأمطار في دولة الكويت :
(سبتمبر - أكتوبر - نوفمبر - ديسمبر)
- 4 حضارة العبيد على المخطط السهمي يمثلها الحرف :

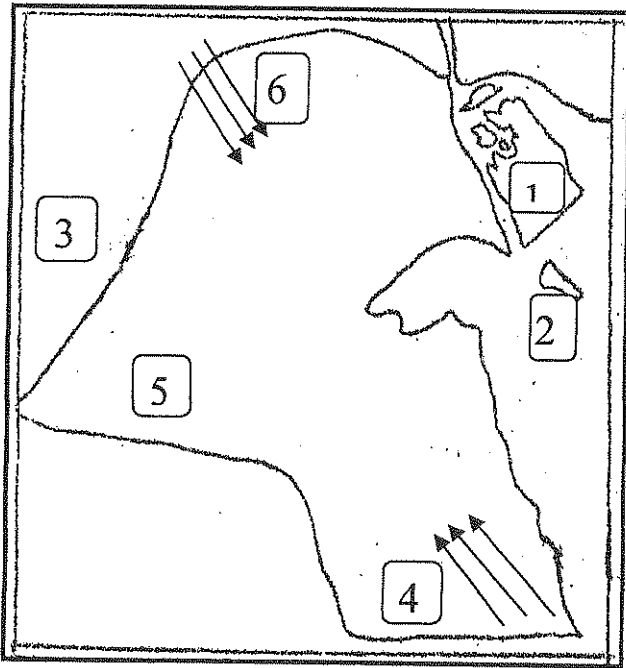


تابع / السؤال الأول الاجباري :

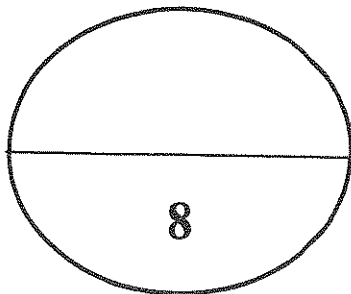
(ج) أكتب المفاهيم أو المصطلحات الدالة على العبارات التالية :

- 1- (.....) رياح جافة جدا تهب من الشمال أو الشمال الشرقي في فصل الصيف .
- 2- (.....) يقوم بعملية إعداد المواد اللازمة للصناعة ثم عملية بناء السفينة نفسها .
- 3- (.....) أكياس كبيرة لحفظ/بعض أنواع الطعام توضع في ظهر الدابة .
- 4- (.....) أداة تستخدم للحفر والجدوم والهبب والمنقاش والسكاكين والسلاسل والدوه .

(د) أمامك خريطة دولة الكويت الصماء أكتب الرقم الدال على العبارات التالية :



- 1- دولة العراق يمثلها الرقم ()
- 2- الجزيرة الكويتية التي كانت مأهولة بالسكان قبل عام 1990م يمثلها الرقم ()
- 3- سهل الدبدبة يمثلها الرقم ()
- 4- رياح الكوس يمثلها الرقم ()



السؤال الثاني (اختياري) ويتكون من (أ - ب - ج)

(أ) علل لما يلي :

1- اختيار الشيخ صباح بن جابر للحكم .

..... -
..... -

2- تعرض التواجد البرتغالي في منطقة الخليج العربية للانهايار التدريجي .

..... -
..... -

(ب) فرق بين كل مما يلي :

القفال	الدشة
.....
القفاص	النداف
.....

(ج) فند العبارات التالية :

1- استمر وضع السكان في الكويت دون تغير عام 1990 م .

..... -

2- استمر التفوق الهولندي في منطقة الخليج العربية طويلا .

..... -

السؤال الثالث (اختياري) ويتكون من (أ - ب - ج)

(أ) عرف المفاهيم التالية :

1. ترانزيت :
2. سرايات :

(ب) نفذ المطلوب ما بين القوسين :

1- ازدهار صناعة السفن في الكويت قديما . (العوامل)

-
-

2- عهد الشيخ عبد الله الأول . (الأحداث)

-
-

3- النمو التجاري والاقتصادي للكويت تحت حكم آل صباح . (القرارات)

-
-

(ج) أكتب فقرة مترابطة من ثلاث أسطر مستعينا بالكلمات التالية :

(الكويت - دولة عثمانية - مدحت باشا - الإحصاء)

-
-
-

السؤال الرابع (اختياري) ويتكون من (أ - ب - ج)

(أ) أقرأ الفقرة التالية ثم أجب عما يليها من أسئلة :

سكن الكويت قبل نزول العتوب قليل من البدو وصيادي الأسماك ومارسوا مجموعة من الأنشطة البحرية مثل صيد الأسماك وصناعة السفن والغوص على اللؤلؤ والتجارة .

1- عرف ما تحته خط .

2- علل تسمية الكويت بهذا الاسم .

3- عدد الأنشطة البحرية في الكويت قديما .

*

*

(ب) برهن على صحة العبارات التالية :

1- تعدد مظاهر اعتزاز الكويت بتراثها البحري .

2- نجاح الكويتيين في التكيف مع البيئة قديما وإمتهان الزراعة .

(ج) علل لما يلي :

1- لقب الشيخ جابر الأول بجابر العيش .

2- تراجع الشيخ صباح الثاني عن قرار فرض الضرائب .

3- إختفاء مهنة الغوص عن اللؤلؤ .

انتهت الأسئلة ،،



وزارة التربية
التوجيه الفني العام للاجتماعيات

نموذج إجابة

امتحان نهاية الفترة الدراسية الأولى
مادة / تاريخ الكويت
الصف العاشر

العام الدراسي
2018 / 2017 م
الزمن / ساعتان وربع
عدد الصفحات (5)



• أجب عن ثلاث أسئلة مما يلي على أن يكون السؤال الأول منها (إجباري) :

السؤال الأول (إجباري) ويتكون من (أ - ب - ج - د) (لكل نقطة نصف درجة)

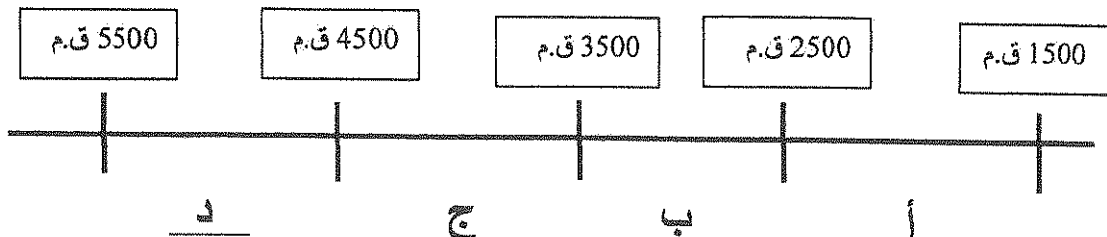
(أ) أكمل العبارات التالية بما يناسبها فيما درست :

1. الشيخ الذي تم في عهده أول تعداد للسكان في دولة الكويت يسمى عبد الله السالم الصباح . ص 24
2. المعركة التي وقعت بين المسلمين والفرس عام 12 هجرية على أرض الكويت تسمى ذات السلاسل /
كاظمة ص 37
3. نسبة المساحة التي تشغلها جزيرة بوبيان من إجمالي مساحة الكويت تبلغ 5 % ص 21

4. العام الذي وقعت دولة الكويت إتفاقية حماية مع بريطانيا 1899م ص 60

(ب) ضع خطا تحت الخيار الصحيح من بين الخيارات التي تلي كل عبارة :

1. سهل يمتد من جون الكويت باتجاه الجنوب موازيا لخط الساحل : ص 21
(الدبدبه - واره - الروضتين - برقان)
2. طريق الحرير أحد أهم طرق التجارة الدولية في العالم القديم ويبدأ من دولة : ص 26
(الصين - الهند - اندونيسيا - عمان)
3. الشهر الذي يبدأ به موسم المطر في دولة الكويت : ص 31
(سبتمبر - أكتوبر - نوفمبر - ديسمبر)
4. حضارة العبيد على المخطط السهمي يمثلها الحرف : ص 35

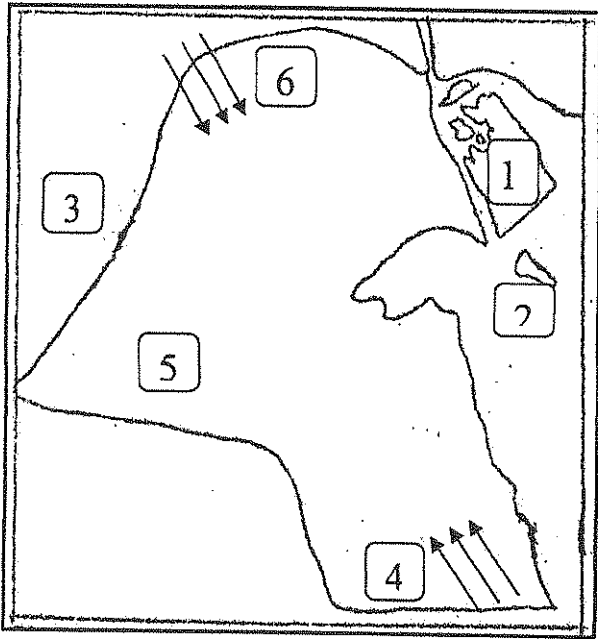


تابع / السؤال الأول الإجابري :

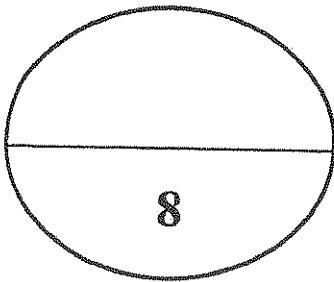
(ج) أكتب المفاهيم أو المصطلحات الدالة على العبارات التالية :

- 1- (السموم) رياح جافة جدا تهب من الشمال أو الشمال الشرقي في فصل الصيف .ص 23
- 2- (القلاف) يقوم بعملية إعداد المواد اللازمة للصناعة ثم عملية بناء السقيفة نفسها .ص 27
- 3- (العدل) أكياس كبيرة لحفظ بعض أنواع الطعام توضع في ظهر الدابة . ص 34
- 4- (الصكين) أداة تستخدم للحفر والجدوم والهبب والمنقاش والسكاكين والسلاسل والدوه . ص 33

(د) أمامك خريطة دولة الكويت الصماء أكتب الرقم الدال على العبارات التالية :



- 1- دولة العراق يمثلها الرقم (3) ص 19
- 2- الجزيرة الكويتية التي كانت مأهولة بالسكان قبل عام 1990 يمثلها الرقم (2) ص 22
- 3- سهل الدبدبة يمثلها الرقم (5) ص 21
- 4- رياح الكوس يمثلها الرقم (4) ص 23



السؤال الثاني (اختياري) ويتكون من (أ - ب - ج)

4 درجات

(أ) علل لما يلي :

- 1- اختيار الشيخ صباح بن جابر للحكم . ص 46
 - سماته الشخصية من شجاعة و حكمة .
 - كانت الزعامة لوالده على قومه منذ أن كانوا بنجد .
 - طوال أيام العام مقيما بالكويت وعمله في البر خلافا للبقية كانوا يعملون في البحر .
- 2- تعرض التواجد البرتغالي في منطقة الخليج العربية للانهباء التدريجي . ص 58
 - المنافسة التجارية بينه وبين الهولنديون والانجليز .
 - جهود اليعاربة في عمان التي ساهمت في تصفية الوجود البرتغالي وطردهم من المنطقة .
 - وقوع البرتغال نفسها تحت الاحتلال الاسباني .

4 درجات

(ب) فرق بين كل مما يلي :

القفال ص 29	الدشة ص 29
إنهاء موسم الغوص	دخول البحر
القفاص ص 33	النداف ص 33
يستخدم العاملین بها جريد النخيل حيث يشبك ببعض وذلك بثقبه وإدخال أطرافه في الثقوب وحيث يقوم العامل بهذه الحرفة بصنع أشكال مختلفة من الأقفاص والمنز بالإضافة إلى الأسرة للكبار و الرك	يقوم النداف بتنجيد وصناعة المساند والفرش مستخدما القطن



درجتان

(ج) فند العبارات التالية :

- 1- استمر وضع السكان في الكويت دون تغير عام 1990 م . ص 24
 - تعرض وضع السكان لتغيرات كبيرة نتيجة للاحتلال العراقي للكويت وما تبع ذلك من عودة الوافدين إلى أوطانهم .
- 2- استمر التفوق الهولندي في منطقة الخليج العربية طويلا . ص 58
 - لم يستمر طويلا بسبب التنافس الانجليزي الهولندي الذي قضى على آمالهم في النهاية .

السؤال الثالث (اختياري) ويتكون من (أ - ب - ج)

درجتان

(أ) عرف المفاهيم التالية :

1. ترانزيت : إعادة تصدير الواردات . ص 30
2. سرايات : أمطار شديدة تسقط في أواخر الربيع وبداية الصيف . ص 23

6 درجات

(ب) نفذ المطلوب ما بين القوسين :

- 1- ازدهار صناعة السفن في الكويت قديماً . (العوامل) يكتفى بنقطتين ص 27
 - هبوب الرياح الموسمية على منطقة الخليج العربي ساعدت على دفع السفن نحو شواطئ الهند وشرق آسيا .
 - توفر الأيدي العاملة لصناعة السفن .
 - تمتع الكويت بواجهة بحرية طويلة يتخللها العديد من التعرجات ووجود النقع الساحلية (مخازن المواد المستخدمة في صناعة السفن) .
 - براعة الأساتذة والقلاليف .
 - توفر مصادر المواد المستخدمة في صناعة السفن .



ص 49

2- عهد الشيخ عبد الله الأول . (الأحداث) يكتفى بنقطتين

- معركة الرقة بين الكويت وبنو كعب 1783 م .
- بناء سور الكويت الأول عام 1811 م .

3- النمو التجاري والاقتصادي للكويت تحت حكم آل صباح . (القرارات) يكتفى بنقطتين ص 52

- قلة الضرائب علي البضائع القادمة للكويت .
- تشجيع بناء سفن الغوص وتأمين طرق التجارة المارة عبر أراضيها .
- اجتذاب الوكالات التجارية فانتقلت الوكالة البريطانية للكويت مرتين عامي 1793م / 1821م .
- لعب التجار الكويتيون دور الوسيط التجاريين مما ساعد على بناء علاقات تجارية مع دول الجوار .

(ج) أكتب فقرة مترابطة من ثلاث أسطر مستعينا بالكلمات التالية : ص 61 درجتان

(الكويت - دولة عثمانية - مدحت باشا - الإحصاء) (ما يراه المصحح صحيح)

كانت العلاقة الكويتية - العثمانية علاقة أسمية قائمة علي الولاء الديني لأن الدولة العثمانية هي دولة الخلافة و ساعدت الكويت للدولة العثمانية في حمله مدحت باشا عام ١٨٧١م لإعادة سيطرتها على إقليم الإحصاء كانت سبباً لتلطيف الأجواء بينهما .

السؤال الرابع (اختياري) ويتكون من (أ - ب - ج)
(أ) أقرأ الفقرة التالية ثم أجب عما يليها من أسئلة :

سكن الكويت قبل نزول العتوب قليل من البدو وصيادي الأسماك ومارسوا مجموعة من الأنشطة البحرية مثل صيد الأسماك وصناعة السفن والغوص على اللؤلؤة التجارية .

1- عرف ما تحته خط ص 46 درجة واحدة

العتوب : أسر ترجع في أصولها إلى عدة قبائل أبرزها قبيلة عنزة وموطنهم الأصلي نجد من منطقة الهدار

2- علل تسمية الكويت بهذا الاسم . ص 46 درجة واحدة

- تصغير لكلمة " كوت " والكلمة تعني القلعة أو الحصن

2- عدد الأنشطة البحرية في الكويت قديما ص 26 درجة واحدة

*صيد السمك * الغوص عن اللؤلؤ * صناعة السفن * التجارة البحرية

(ب) برهن علي صحة العبارات التالية : 4 درجات

1- تتعد مظاهر اعتزاز الكويت بتراثها البحري . ص 28

- اتخذت صورة سفينة البوم الكويتي لتكون شعارا للدولة وكذلك العملة الوطنية .

- غالبا ما تزين المؤسسات بصور ومشاهد تعبر عن عمق ارتباط الكويت بتراثها البحري .

2- نجاح الكويتيين في التكيف مع البيئة قديما وامتثال الزراعة . ص 31

- زراعة النباتات التي تتلاءم مع البيئة .

- استغلوا مياه الأمطار القليلة .

- استخدموا مياه الآبار السطحية المتوفرة .

- قاموا بزراعة بعض الخضروات مثل الطماطم والبطاطس وغيرهما .

(ج) علل لما يلي : 3 درجات

1- اشتهر الشيخ جابر الأول بجابر العيش . ص 50

- لكرمه و لكثرة ما يتصدق به على الفقراء .

2- تراجع الشيخ صباح الثاني عن قرار فرض الضرائب . ص 50


- رفض التجار و احتراماً لرغبة أبناء شعبه .

3- اختفاء مهنة الغوص عن اللؤلؤ . ص 29

- بسبب ظهور اللؤلؤ الصناعي علم 1928 م بالإضافة لظهور النفط .

انتهت الاجابة ،،،





دولة الكويت

وزارة التربية

التوجيه الفني العام للاجتماعيات

امتحان نهاية الفترة الدراسية الأولى للعام الدراسي

٢٠١٦ / ٢٠١٧ م

مادة : تاريخ الكويت

لصف العاشر

• تعليمات الامتحان

- إبدأ الامتحان بسم الله .
- الامتحان يتكون من خمسة أسئلة أجب عن أربعة منها فقط .
- عدد أوراق الامتحان (٥) أوراق .
- زمن الامتحان ساعتان وربع
- لا تستخدم المزيل الأبيض (الكوريكتور) .

مع تمنياتنا لكم بالنجاح والتوفيق ،،،



العام الدراسي ٢٠١٦ / ٢٠١٧ م
الزمن : (ساعتان وربع)
عدد الأوراق : (٥)

امتحان نهاية الفترة الدراسية الأولى
الصف العاشر
تاريخ الكويت

وزارة التربية
التوجيه الفني العام للاجتماعيات

السؤال الأول : (إجباري) يتكون من (أ - ب - ج - د)

(أ) ضع خطاً تحت الخيار الصحيح من بين الخيارات التي تلي كل عبارة :-

- أول تعداد سكاني لدولة الكويت عام :

١٩٥٦م - ١٩٥٧م - ١٩٥٨م - ١٩٥٩م

- تلال على شكل قباب تقع في جنوب دولة الكويت :

جال الزور - كراع المرو - اللياح - واره

- قائل هذه المقولة " لو كانت تحت يدي ثروة طائلة لقمّت بحاجة الفقراء والمحتاجين منها إلي أن يموتوا " الشيخ :

جابر الأول - صباح الثاني - عبد الله بن صباح - محمد بن صباح

- الجزيرة الوحيدة المأهولة بالسكان بدولة الكويت :

بوبيان - فيلكا - عوهه - وربة

(ب) رتب الأحداث التاريخية التالية من الأقدم إلى الأحدث :-

(حملة مدحت باشا - اتفاقية الحماية - تأسيس شركة الهند الشرقية البريطانية - معركة ذات السلاسل)

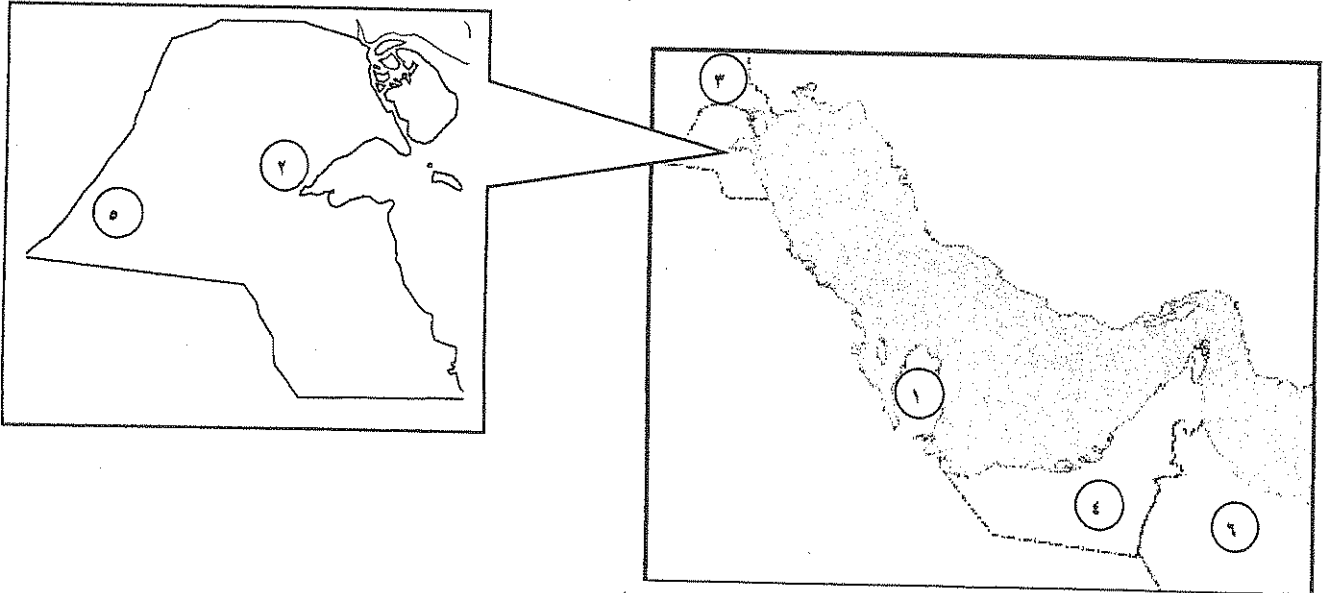
م	الأحداث التاريخية
١	
٢	
٣	
٤	

تابع / السؤال الأول :

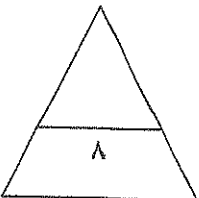
(ج) اكتب المفاهيم أو المصطلحات الدالة على العبارات التالية :-

- (.....) حرفة يدوية يقوم العاملون بها بصنع وتلميع القدور المستخدمة في المطبخ .
- (.....) الأماكن التي تكثر فيها منابت المحار المحتوي على اللؤلؤ.
- (.....) إعادة تصدير الواردات .
- (.....) أحد أهم الطرق التجارية الدولية في العالم القديم يبدأ من الصين .

(د) أمامك خريطة دول الخليج العربي ودولة الكويت أكتب الرقم الدال على العبارات التي تليها :-



- محطة الاستقرار الأولى لهجرة العنوب يمثلها الرقم ()
- قوى قامت بتصفية الاستعمار البرتغالي يمثلها الرقم ()
- منطقة زراعية قديمة في دولة الكويت يمثلها الرقم (/)
- دولة قامت بالاعتداء على دولة الكويت عام ١٩٩٠م يمثلها الرقم ()



السؤال الثاني : (اختياري) يتكون من (أ - ب - ج)

(أ) عرف المفاهيم التالية :-

- القلاف :

- العدول :

(ب) نفذ المطلوب منك ما بين القوسين :-

(أدلة)

- اعتزاز دولة الكويت بتراثها البحري .

(الأسباب)

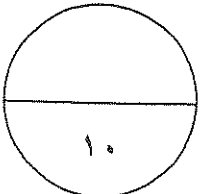
- تعتبر السيطرة البرتغالية من أسوأ النظم الاستعمارية في الخليج العربي .

(تأثيرها على أهل الكويت)

- حرفة الغوص في دولة الكويت .

(ج) : فرق بين كل مما يلي حسب الجدول التالي :-

الأعمال والأحداث التاريخية في عهد الشيخ عبد الله الأول	الأعمال والأحداث التاريخية في عهد الشيخ صباح الأول
.....
.....



السؤال الثالث : (اختياري) يتكون من (أ - ب - ج)

(أ) علل لما يلي :-

- ازدهار صناعة السفن في دولة الكويت قديما .

- قلة الوافدين في دولة الكويت في أعقاب عام ١٩٩٠ م .

- اتجاه معظم الكويتيين قديما إلى العمل في النشاط البحري .

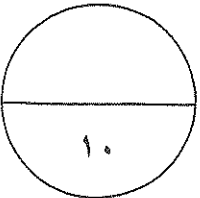
(ب) فرق بين كل مما يلي حسب الجدول التالي :-

القفال	الدشة
.....
الندافة	الحياكة
.....

(ج) : لاحظ الصورة جيدا ثم أجب عن الأسئلة التالية :-

- ما اسم الحضارة التي تنسب لها الصورة المقابلة ؟

- اكتب استخدامات ما تجسده الصورة .



السؤال الرابع : (اختياري) يتكون من (أ - ب - ج)

(أ) علل لما يلي :

- اتجاه البرتغاليون للسيطرة على الخليج العربي في مطلع ق ١٦ م .

- اختيار الشيخ صباح الأول للحكم .

- الأهمية الاقتصادية للخليج العربي قديما .

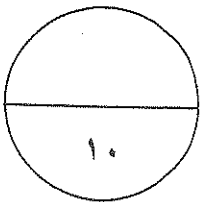
(ب) نفذ المطلوب منك بين القوسين :

(النتائج على بريطانيا)

- انهيار الاستعمار الهولندي .

- كانت العلاقة الكويتية العثمانية علاقة اسمية قائما على الولاء الديني فقط . (أدلة)

(ج) فند لم يتخذ حكام الكويت قديما أي قرارات تساعد على النمو التجاري والاقتصادي .



انتهت الأسئلة تمنياتنا بالنجاح والتوفيق





وزارة التربية
التوجيه الفني العام للاجتماعيات

نموذج الاجابة
امتحان نهاية الفترة الدراسية الاولى
الصف العاشر
تاريخ الكويت

للعام الدراسي ٢٠١٦ / ٢٠١٧ م
الزمن : (ساعتان وربع)
الأوراق : (٥)

السؤال الأول : (إجباري) يتكون من (أ - ب - ج - د) :- (لكل نقطة نصف درجة)

(أ) ضع خطاً تحت الخيار الصحيح من بين الخيارات التي تلي كل عبارة :-

ص ٢٤

- أول تعداد سكاني لدولة الكويت عام :

- ١٩٥٩ م

- ١٩٥٨ م

- ١٩٥٧ م

- ١٩٥٦ م

ص ٢٠

- تلال على شكل قباب تقع في جنوب دولة الكويت :

- واره

- اللياح

- كراع المرو

- جال الزور

- قائل هذه المقولة " لو كانت تحت يدي ثروة طائلة لقمتم بحاجة الفقراء والمحتاجين منها إلي أن يموتوا " الشيخ : ص ٥٠

- محمد بن صباح

- عبد الله بن صباح

- صباح الثاني

- جابر الأول

ص ٢٢

- الجزيرة الوحيدة المأهولة بالسكان بدولة الكويت :

- وربة

- عوهه

- فيلكا

- بوبيان



(ب) رتب الأحداث التاريخية التالية من الأقدم إلى الأحدث :-

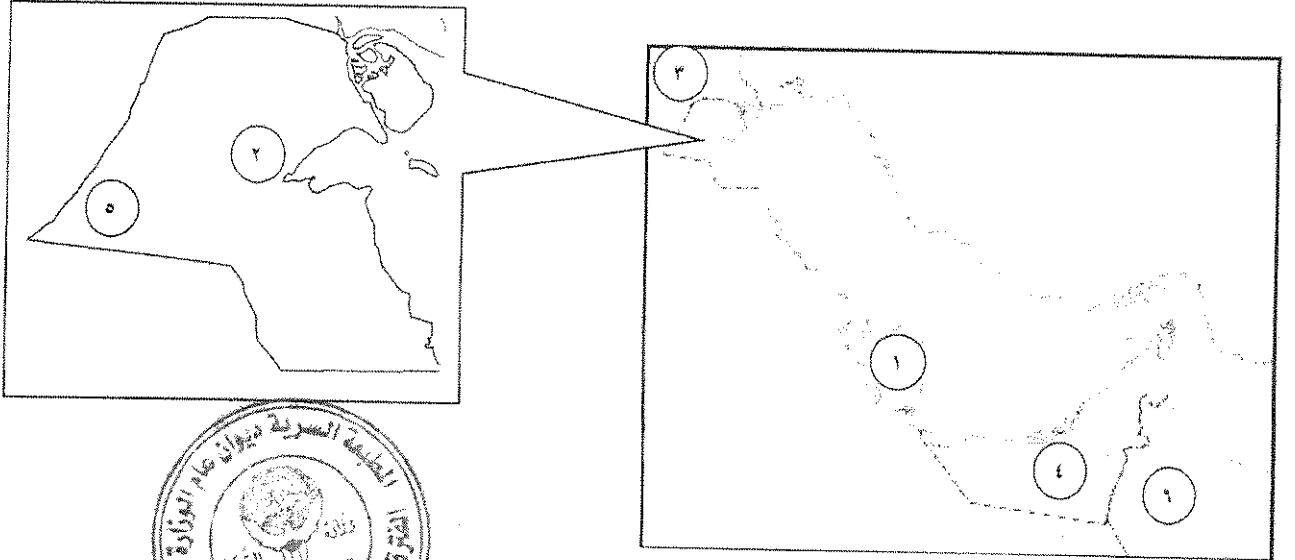
م	الأحداث التاريخية
١	معركة ذات السلاسل ص ٣٧
٢	تأسيس شركة الهند الشرقية البريطانية ص ٥٩
٣	حملة مدحت باشا ص ٥٠
٤	اتفاقية الحماية ص ٦٠

تابع / السؤال الأول :-

(ج) اكتب المفاهيم أو المصطلحات الدالة على العبارات التالية :-

- (الصفار) حرفة يدوية يقوم العاملون بها بصنع وتلميع القدور المستخدمة في المطبخ . ص ٣٣
- (الهيرات) الأماكن التي تكثر فيها منابت المحار المحتوي على اللؤلؤ . ص ٢٩
- (الترانزيت) إعادة تصدير الواردات . ص ٣٠
- (طريق الحرير) أهم الطرق التجارية الدولية في العالم القديم يبدأ من الصين . ص ٢٦

(د) أمامك خريطة دول الخليج العربي ودولة الكويت اكتب الرقم الدال على العبارات التي تليها :-



- ص ٤٦ - محطة الاستقرار الأولى لهجرة العتوب يمثلها الرقم (١)
- ص ٥٨ - قوى قامت بتصفية الاستعمار البرتغالي يمثلها الرقم (٦)
- ص ٣٢ - منطقة زراعية قديمة في دولة الكويت يمثلها الرقم (٢)
- ص ٢٤ - دولة قامت بالاعتداء على دولة الكويت عام ١٩٩٠م يمثلها الرقم (٣)

السؤال الثاني : (اختياري) يتكون من (أ - ب - ج)

(أ) عرف المفاهيم التالية :- (لكل نقطة درجة)

- القلاف : يقوم بإعداد المواد اللازمة للصناعة السفن ومن ثم عملية البناء نفسها ص ٢٧
- العدول : أكياس كبيرة لحفظ بعض أنواع الطعام توضع على ظهر الدابة وبها حاجات الراكب أيضا . ص ٣٤

(ب) نفذ المطلوب منك ما بين القوسين :- (لكل نقطة درجة)

- اعتزاز دولة الكويت بتراثها البحري .
- اتخذت صورة سفينة اليوم الكويتي لتكون شعارا للدولة .
- شعار للعملة الوطنية .
- تزيين المؤسسات بصور ومشاهدة سفينة اليوم التي تعبر عن عمق ارتباط الكويت وشعبها بتراثها البحري .

- البرتغال من أسوأ النظم الاستعمارية في الخليج العربي .
- تدمير البرتغاليين القاعدة الاقتصادية لمنطقة الخليج ودولاتها .
- احتلال المدن والقرى بطريقة وحشية .

- حرفة الفؤوس في دولة الكويت .
- تقوية العلاقات بين السكان وتواصل قيم الصدق والأمانة .
- الاحترام المتبادل وتكوين الأسرة الواحدة .
- التعاون والتعاقد بالمجتمع .
- الالتزام والطاعة .



(ج) : فرق بين كل مما يلي حسب الجدول التالي :- (لكل نقطة نصف درجة)

الأعمال والأحداث التاريخية في عهد الشيخ عبد الله الأول	الأعمال والأحداث التاريخية في عهد الشيخ صباح الأول
<ul style="list-style-type: none">- ازدهرت الإمارة في عهدة حيث امتدت إلى الهند واليمن وشرق أفريقيا والعراق .- معركة الرقة عام ١٧٨٣م- بناء سور الكويت الأول عام ١٨١١م	<ul style="list-style-type: none">- عمل على توطيد الأمن ونشر العدل وتنظيم أمور السكان- ترسيخ أنشطة الكويت التجارية .- اجتذاب الكثير من المهاجرين الذي وجدوا فيها موطن استقرار ونظام حكم قائم على الشورى .
ص ٤٩ (يكتفي بنقطتين)	ص ٤٩ (يكتفي بنقطتين)

السؤال الثالث : (اختياري) يتكون من (أ - ب - ج)
(أ) علل لما يلي :-

- ازدهار/صناعة السفن في دولة الكويت قديما . (لكل نقطة درجة) يكتفي بنقطتين ص ٢٧
- هبوب الرياح الموسمية على منطقة الخليج العربي التي ساعدت على دفع السفن نحو شواطئ الهند وشرق آسيا .
- توفر الأيدي العاملة لصناعه السفن
- تمتع الكويت بواجهة بحرية طويلة تمتد من شمالها إلى جنوبها ويتخللها العديد من التعرجات فضلا عن جون الكويت شمالا وانتشار العديد من الجزر في مياها الإقليمية ووجود النقع والعمائر الساحلية .
- براعة الأساتذة والفلايف .
- توفر مصادر المواد المستخدمة لصناعة السفن .
- قلة الوافدين في دولة الكويت في أعقاب عام ١٩٩٠ م .
- نتيجة للعدوان واحتلال العراقي البائد لدولة الكويت .
- تبع ذلك هجرة كبيرة للوافدين من العرب وغيرهم إلى أوطانهم .
- اتجاه معظم الكويتيين قديما إلى العمل في النشاط البحري .
- تقع الكويت في منطقة صحراوية قليلة الموارد شحيحة الأمطار .
- أرضها غير صالحة للزراعة .

ص ٢٤


ص ٢٦



(ب) : فرّق بين كل مما يلي حسب الجدول التالي :- (لكل نقطة نصف درجة)

القفال ص ٢٩	الدشة ص ٢٩
انتهاء موسم الغوص .	بداية دخول الغواصين على اللؤلؤ إلى البحر .
الندافة ص ٣٣	الحيابة ص ٣٣
تجديد وصناعة المساند والفرش مستخدما القطن .	خياطة الملابس كالبيشوت .

(ج) : لاحظ الصورة المقابلة جيدا ثم أجب عن الأسئلة التالية :-



- ما اسم الحضارة التي تنسب لها الصورة المقابلة ؟ ص ٣٦
- الحضارة الدلمونية
- اكتب استخدامات ما تجسده الصورة . ص ٣٦
- تعويذة .
- ختم تجاري .
- هوية لحاملها .


السؤال الرابع : (اختياري) يتكون من (أ - ب - ج) .

(أ) علل لما يلي : (لكل نقطة درجة) يكتفى بنقطتين

- ص ٥٧
- اتجاه البرتغاليون للسيطرة على الخليج العربي في مطلع ق ١٦ م .
 - النهضة الملاحية التي شهدتها أوروبا في هذه الفترة وإدراكهم للأهمية الاقتصادية التي من الممكن الاستفادة منها إذا ما سيطروا على هذا الممر المائي المهم .
 - سرعة توجه الكشوف الجغرافية والاستعمارية بدافع العامل السياسي والديني على منطقة الخليج العربي حيث كان هناك صراع بينهم وبين العثمانيين .
 - اختيار الشيخ صباح الأول للحكم .
 - لسماته الشخصية من شجاعة وحكمة .
 - كان والده له الزعامة على قومه منذ كانوا في نجد .
 - كان مقيماً طوال أيام العام بالكويت .
 - عملة في البر خلافاً للبقية الذين كانوا يعملون في البحر .
 - الأهمية الاقتصادية للخليج العربي قديماً .
 - يقع في موقع متوسط من قارات العالم القديم الثلاث .
 - وجود مضيق هرمز الذي يربط بين خليج عمان والخليج العربي .
 - توفر الموارد الطبيعية البرية والبحرية (التمر - اللؤلؤ) .
 - توفر وسائل النقل التجارية (برا وبحرا) .

ص ٤٦

ص ٢٥



(ب) نفذ المطلوب منك بين القوسين : (درجتان لكل نقطة نصف درجة)

- ص ٥٩
- (النتائج على بريطانيا)
- وضع البريطانيون أيديهم على ممتلكات هولندا في الهند واستولوا على (سيلان) ثم على المواقع التجارية الهولندية في (الخليج العربي) .
 - قيام شاة فارس بمنح البريطانيين بعض الامتيازات .
 - ظهرت للبريطانيين الأهمية الإستراتيجية الكبرى لمنطقة الخليج العربي حيث اعتبرته طريق حيوي لحماية إمبراطوريتهم في الهند وحماية مصالحهم هناك .
 - قامت بريطانيا بتوسيع وجودها السياسي وتعزيز وجودها العسكري بشكل يضمن لها تحقيق الانفراد في الخليج العربي بشكل كامل وظهرت النوايا والأهداف السياسية الجديدة لبريطانيا التي تهدف إلى تدعيم نفوذها في المنطقة دون منافس في المنطقة .
 - كانت العلاقة الكويتية العثمانية علاقة اسمية قائما على الولاء الديني فقط . (أدلة) ص ٦١
 - عدم وجود أي سلطة عثمانية (إدارية - سياسية - عسكرية) فمن أدار شؤون الكويت الداخلية حكامها من آل صباح وأهلها .
 - استصدار مدحت باشا الفرمان العثماني الذي حدد فيه علاقة الكويت بالدولة العثمانية والتي تؤكد أن شيخ الكويت مستقل في شؤونه وكما سمح للكويت من ممارسة قضاءها الخاص المستقل عن الدولة العثمانية ولم يتضمن الفرمان وجود قوات عسكرية تابعة للدولة العثمانية ولم يتدخل في فرض الحكام واختيارهم .

(ج) فند لم يتخذ حكام الكويت قديماً أي قرارات تساعد على النمو التجاري والاقتصادي . (درجتان لكل نقطة درجة)

- بل اتخذ حكام الكويت العديد من القرارات ذات أبعاد اقتصادية ساعدت على النمو التجاري والاقتصادي للكويت .
- قلة الضرائب على البضائع القادمة للكويت .
- تشجيع بناء السفن الغوص وتأمين طرق التجارة المارة عبر أراضيها حيث أصبحت الكويت سوقاً لسكان البادية ووسط نجد .
- اجتذاب الوكالات التجارية التابعة للشركات الأوروبية العاملة في الخليج العربي حيث انتقلت الوكالة البريطانية للكويت مرتين (الأولى ١٧٩٣ م والثانية عام ١٨٢١ م) . * لا يحاسب الطالب على ذكر السنوات ص ٥٢