



امتحان مادة : الدراسات الاجتماعية

للمصف : السابع

للعام الدراسي ١٤٣٩/١٤٤٠هـ - ٢٠١٨/٢٠١٩م

الدور الاول - الفصل الدراسي الاول

● زمن الامتحان : (ساعة ونصف) ● عدد صفحات أسئلة الامتحان: (٧) صفحات.

● الإجابة في الدفتر نفسه .

| اسم الطالب | | |
|------------|------|--|
| المدرسة | الصف | |

| الترتيب | الدرجة | | التوقيع بالاسم | |
|---------------|----------|---------|----------------|---------------|
| | بالأرقام | بالحروف | المصحح الأول | المصحح الثاني |
| ١ | | | | |
| ٢ | | | | |
| ٣ | | | | |
| ٤ | | | | |
| ٥ | | | | |
| المجموع | | | جمعه | مراجعة الجمع |
| المجموع الكلي | | | | |

أجب عن جميع الأسئلة الآتية

السؤال الأول: ضع دائرة حول رمز الإجابة الصحيحة لكل مفردة من المفردات الآتية:

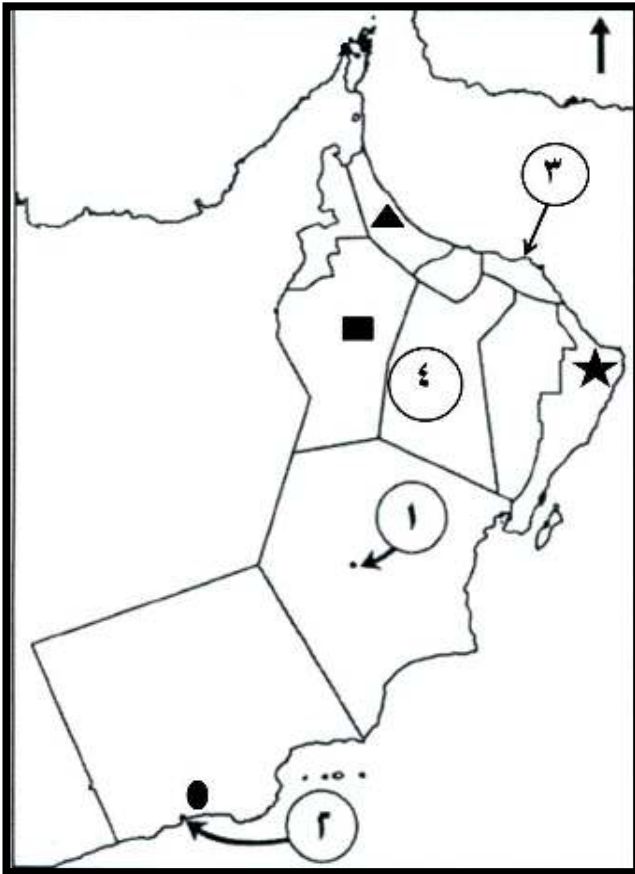
١- قامت دولة سبأ بين عامي (٨٠٠ ق . م - ١١٥ ق . م) في :

(أ) العراق (ب) اليمن (ج) البحرين (د) عمان

٢- يعود الفضل في اتساع رقعة الأراضي الزراعية في الحضارات القديمة لاكتشاف معدن :

(أ) النحاس (ب) البرونز (ج) الحديد (د) الفضة

استعن بخريطة سلطنة عُمان للإجابة على المفردات (٣ ، ٤) :



٣- الموقع الذي كان يصدر منه اللبان قديماً مشار إليه بالرمز :

(أ) ▲ (ب) ★

(ج) ■ (د) ●

٤- أكبر محافظة من حيث إجمالي عدد السكان مشار إليها بالرقم :

(أ) ١ (ب) ٢

(ج) ٣ (د) ٤

تابع السؤال الأول:

٥- تم أول تعداد شامل في سلطنة عُمان في العام الميلادي :

أ (١٩٩١)

ب (١٩٩٣)

ج (١٩٩٥)

د (١٩٩٧)

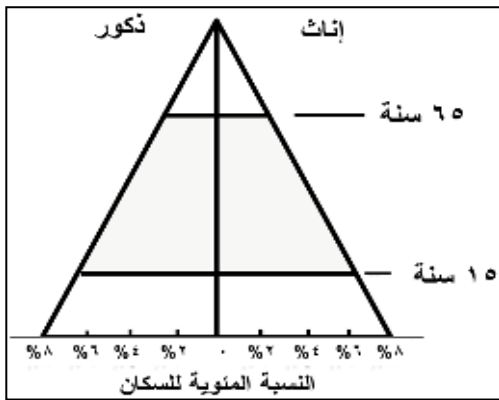
٦- معظم سكان العالم يعيشون فوق مساحة لا تزيد عن :

أ (٤ %)

ب (٦ %)

ج (٨ %)

د (١٠ %)



٧- الوصف الصحيح لخصائص الهرم الذي أمامك :

أ (ازدياد نسبة صغار السن)

ب (انخفاض نسبة صغار السن)

ج (ازدياد نسبة متوسطي السن)

د (انخفاض نسبة متوسطي السن)

٨- الصورة التي تمثل البيئة الغير جاذبة للسكان :



ب ()



أ ()



د ()



ج ()

تابع السؤال الأول:

٩ - استغلال المال الزائد عن الحاجة لإقامة المشاريع يعرف بـ :

أ () الدخل ب () الترشيد ج () الادخار د () الاستثمار

١٠ - التدخين أحد المسببات الرئيسية لسرطان :

أ () الدم ب () الرئة ج () العظام د () الدماغ

١١ - الجدول الذي يمثل التصنيف الصحيح للممتلكات :

| الممتلكات العامة | الممتلكات الخاصة |
|------------------|------------------|
| المدرسة السعيدية | مركز شرطة هيم |
| فندق هوليداي ان | سيارات الأجرة |

(ب)

| الممتلكات العامة | الممتلكات الخاصة |
|------------------|------------------|
| المدرسة السعيدية | فندق هوليداي ان |
| مركز شرطة هيم | سيارات الأجرة |

(أ)

| الممتلكات العامة | الممتلكات الخاصة |
|------------------|------------------|
| سيارات الأجرة | مركز شرطة هيم |
| فندق هوليداي ان | المدرسة السعيدية |

(د)

| الممتلكات العامة | الممتلكات الخاصة |
|------------------|------------------|
| سيارات الأجرة | مركز شرطة هيم |
| المدرسة السعيدية | فندق هوليداي ان |

(ج)

١٢ - الصورة التي توضح العلامة التحذيرية للتعليق الخاطئ :



(ب)



(أ)



(د)




(ج)

السؤال الثاني : أجب عن الأسئلة الآتية :

أولاً : - أكتب مقابل كل عبارة من العبارات الواردة في الجدول الآتي المفهوم الدال عليها :

| المفهوم | العبارة |
|---------|--|
| | ١- كل ما أوجده الإنسان من أجل سد احتياجاته ، سواء كان ذلك مادياً أم غير مادي . |
| | ٢- التطور الحاصل في أعداد السكان نتيجة الزيادة الطبيعية والهجرة . |
| | ٣- سلامة الإنسان من أي مرض ، وقيامه بوظائفه على أكمل وجه . |

ثانياً : أجب عن الأسئلة الآتية :



١ - المورد الذي يتجدد من خلال العملية الموضحة بالشكل هو

٢- أوجد العلاقة بين عدد السكان والموارد الطبيعية .

٣- وضح أهمية النفط والمعادن للدولة .

ثالثاً - (يوجد في سلطنة عمان عدد من المتاحف أبرزها : المتحف العماني ، والمتحف الوطني ، ومتحف التاريخ الطبيعي ، ومتحف أرض اللبان بصلالة ..) .

١- هل تؤيد إقامة مثل هذه المتاحف ؟

ضع علامة (√) في المكان المناسب

نعم ☐ لا ☐

٢- فسر إجابتك :

السؤال الثالث : أجب عن الأسئلة الآتية :

أولا - ادرس الخريطة التي أمامك ثم أجب عن الأسئلة التي تليها :



- ١- أكتب الأسماء التالية في مكانها الصحيح على الخريطة :
أ (بلاد فارس) ب (البحر المتوسط)
- ٢- ناقش / أهمية الادخار للأسرة .

ثانيا - أذكر نتيجة واحدة ترتبت على ما يأتي :

- ١ - انهيار سد مأرب .

- ٢ - المشكلة السكانية .

- ٣ - ازدياد حوادث الطرق .

ثالثا- أجب عن الأسئلة الآتية :

- ١- دلل على التقدم الصحي الذي شهدته السلطنة بعد النهضة المباركة.

- ٢- احسب معدل الوفيات وفق المعطيات التالية : (بلغ عدد السكان في أحد الدول عام ٢٠١٧م (١,٩٥٠,٣٤٠) نسمة ، وعدد الوفيات (١٢,٠٠٠) نسمة .

السؤال الرابع :

أولاً - تأمل الصورة أمامك، ثم أجب :

١- حدد اسم المشكلة الموضحة بالصورة ؟

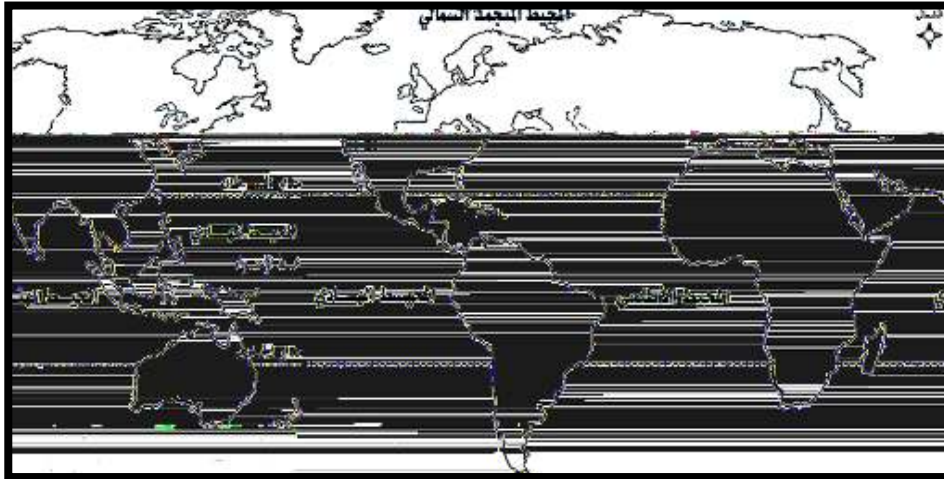
٢- اقترح حلاً واحداً لهذه المشكلة .

ثانياً : أجب عن الأسئلة الآتية :

١ - متى عرف الإنسان الكتابة ؟

٢- تتعدد مؤسسات الخدمة في سلطنة عُمان ، أذكر إحداها .

ثالثاً - ادرس الخريطة أمامك ، ثم أجب عن الأسئلة التي تليها :



١- ظلل على الخريطة باستخدام الرمز (■) أقل قارات العالم من حيث عدد السكان.

٢- ضع علامة (✓) : يتركز سكان العالم في :

نصف الكرة الأرضية الجنوبي

☐

نصف الكرة الأرضية الشمالي

☐

السؤال الخامس :أولا -

١ - (تم العثور على بعض ثمار النخيل المتحجرة في مواقع الحفريات الأثرية بالسلطنة) ،
ما دلالة ذلك ؟

ثانيا - اقرأ النص ، ثم أجب عما يليه :

" عملت السلطنة على الحد من الهجرة من الريف إلى المدينة ، وذلك بإقامة المشاريع
 التنموية والاقتصادية والاجتماعية والصحية في مختلف المحافظات " .

١- عرف الهجرة .

٢- ما نوع الهجرة في النص ؟

ثالثا - أدرس الصورة الآتية ، ثم أجب عن الأسئلة التي تليها :



١- الصورة التي أمامك توضح أحد قوانين السلامة
 المرورية . ما هو ؟

٢- وجه نصيحة لسائقي المركبات الذين لا يطبقون
 هذا القانون .

انتهت الأسئلة مع الدعاء للجميع بالتوفيق والنجاح.



نموذج إجابة امتحان الصف السابع
للعام الدراسي ١٤٤٠/١٤٣٩ هـ - ٢٠١٨/٢٠١٩ م
الدور الاول - الفصل الدراسي الاول

المادة: الدراسات الاجتماعية الدرجة الكلية: (٤٠) درجة.
تنبيه: نموذج الإجابة في (٥) صفحات.

أولاً: إجابة السؤال الموضوعي:

| المفردة | البديل الصحيح | الإجابة | الدرجة | الصفحة | المستوى المعرفي | | | | | | |
|------------------|------------------|---|------------------|------------------|------------------|-----------------|----------------|---------------|---|----|------------|
| ١ | ب | اليمن | ١ | ٣٦ | معرفة | | | | | | |
| ٢ | ج | الحديد | ١ | ١٦ | قدرات عليا | | | | | | |
| ٣ | د | ● | ١ | ٢٧ | فهم وتطبيق | | | | | | |
| ٤ | ج | ٣ | ١ | ٦٣ | فهم وتطبيق | | | | | | |
| ٥ | ب | ١٩٩٣ | ١ | ٤٠ | معرفة | | | | | | |
| ٦ | د | ١٠ % | ١ | ٥٩ | معرفة | | | | | | |
| ٧ | أ | ازدياد نسبة صغار السن | ١ | ٤٧- ٤٦ | فهم وتطبيق | | | | | | |
| ٨ | ج |  | ١ | ٥٩ | فهم وتطبيق | | | | | | |
| ٩ | د | الاستثمار | ١ | ٧٣ | معرفة | | | | | | |
| ١٠ | ب | الرئة | ١ | ٧٨ | معرفة | | | | | | |
| ١١ | أ | <table border="1"><tr><td>الممتلكات العامة</td><td>الممتلكات الخاصة</td></tr><tr><td>المدارس السعودية</td><td>فنادق هولندي ات</td></tr><tr><td>مركز شرطة هيفا</td><td>سيارات الأجرة</td></tr></table> | الممتلكات العامة | الممتلكات الخاصة | المدارس السعودية | فنادق هولندي ات | مركز شرطة هيفا | سيارات الأجرة | ١ | ٨٢ | فهم وتطبيق |
| الممتلكات العامة | الممتلكات الخاصة | | | | | | | | | | |
| المدارس السعودية | فنادق هولندي ات | | | | | | | | | | |
| مركز شرطة هيفا | سيارات الأجرة | | | | | | | | | | |
| ١٢ | ج |  | ١ | ٩٢ | فهم وتطبيق | | | | | | |
| المجموع | | | ١٢ درجة | | | | | | | | |

(٢)

تابع نموذج إجابة امتحان الصف السابع
للعام الدراسي ١٤٣٩/١٤٤٠ هـ - ٢٠١٨/٢٠١٩ م
الدور الاول - الفصل الدراسي الاول
المادة : الدراسات الاجتماعية

ثانيا: إجابة الأسئلة المقالية:

| إجابة السؤال الثاني | | | | | الدرجة الكلية: (٨) درجات |
|---------------------|---------|---|--------|-----------------|----------------------------|
| الجزئية | المفردة | الإجابة الصحيحة | الدرجة | الصفحة | المستوى المعرفي |
| أولا | ١ | الحضارة | ١ | ١٣ | معرفة |
| | ٢ | النمو السكاني | ١ | ٥٠ | معرفة |
| | ٣ | الصحة. | ١ | ٧٧ | معرفة |
| ثانيا | ١ | الماء | ١ | ٦٦ | فهم وتطبيق |
| | ٢ | تتأثر العلاقة سلباً بزيادة عدد السكان ، حيث تشكل الزيادة السكانية ضغطاً على الموارد المتجددة واستنزافاً للموارد غير المتجددة . (<u>هما يفيد المعنى</u>) | ١ | ٦٦ | فهم وتطبيق |
| | ٣ | تشكل مصدراً هاماً لدخل الدولة (الإيرادات) ، وتوفير الأموال بحيث تتمكن الدولة من الإنفاق على مشروعاتها الحيوية والتنمية (<u>هما يفيد المعنى</u>) | ١ | ٨٦ | فهم وتطبيق |
| ثالثا | ١ | - نعم | ١ | | |
| | ٢ | (لأنها تحافظ على الآثار والمقتنيات التاريخية الهامة ، تعرفنا عليه ، تعرضه للزائرين .. الخ) . <u>يتروك للطالب حرية الإجابة (<u>هما يفيد</u></u> <u>المعنى</u>) | ١ | ٢٠ ، ٢٣ ، ٨٦ | قدرات عليا |

(٣)

تابع نموذج إجابة امتحان الصف السابع
للعام الدراسي ١٤٣٩/١٤٤٠ هـ - ٢٠١٨/٢٠١٩ م
الدور الاول - الفصل الدراسي الاول
المادة : الدراسات الاجتماعية

تابع ثانيا: إجابة الأسئلة المقالية:

| إجابة السؤال الثالث | | | | | الدرجة الكلية: (٨) درجات | |
|---------------------|---------|---|--------|------------|--------------------------|--|
| الجزئية | المفردة | الإجابة الصحيحة | الدرجة | الصفحة | المستوى المعرفي | |
| أولا | أ / ١ |  | ١ | ١٧ | فهم وتطبيق | |
| | ب / ١ | | ١ | ٣٥ | فهم وتطبيق | |
| | ٢ | يساعد على توفير أموال تساعد الأسرة على الاتفاق عند الضرورة ، ويمكن استثمار الأموال المدخرة في بعض المشروعات التجارية والصناعية المختلفة . (يكتفى بذكر واحدة) (بما يفيد المعنى) | ١ | ٧٣ | فهم وتطبيق | |
| ثانيا | ١ | تخريب الأراضي الزراعية ، هجرة بعض القبائل نحو أطراف شبه الجزيرة العربية . (يكتفى بذكر واحدة) | ١ | ٣٦ | معرفة | |
| | ٢ | تدني مستوى المعيشة ، انتشار الفقر ، سوء التغذية ، استنزاف الموارد الطبيعية ، انتشار الأمراض ، المجاعات ، الجوع ، التدهور البيئي والتلوث (يكتفى بذكر واحدة) | ١ | ٦٥ - ٦٩ | معرفة | |
| | ٣ | وفيات ، إصابات جسيمة ، إعاقات ، خسائر مادية ، تأثير سلبي على الاقتصاد الوطني للدولة (يكتفى بذكر واحدة) | ١ | ٨٨ | معرفة | |
| ثالثا | ١ | انخفاض معدل الوفيات ، ازدياد المستشفيات الحكومية والأطباء ، وجود عدد كبير من الأطباء العمانيين (يكتفى بذكر واحدة) (بما يفيد المعنى) | ١ | ٥١ - ٥٢ | فهم وتطبيق | |
| | ٢ | ٦,١٥ (بالآلف) | ١ | ٥١ | فهم وتطبيق | |

(٤)

تابع نموذج إجابة امتحان الصف السابع
للعام الدراسي ١٤٣٩/١٤٤٠ هـ - ٢٠١٨/٢٠١٩ م
الدور الاول - الفصل الدراسي الاول
المادة : الدراسات الاجتماعية

تابع ثانيا: إجابة الأسئلة المقالية:

| إجابة السؤال الرابع | | | | | |
|--------------------------|---------|--|--------|--------|-----------------|
| الدرجة الكلية: (٦) درجات | | | | | |
| الجزئية | المفردة | الإجابة الصحيحة | الدرجة | الصفحة | المستوى المعرفي |
| أولا | ١ | التلوث أو التدهور البيئي | ١ | ٦٩ | قدرات عليا |
| | ٢ | (وضع قوانين ، حملات توعية ، المحافظة على نظافة البيئة .. الخ) <u>يترك للطالب حرية الاجابة بما يفيد المعنى</u> (يكتفى بذكر واحدة) | ١ | ٦٩ | قدرات عليا |
| ثانيا | ١ | الالف الرابعة قبل الميلاذ | ١ | ١٤ | معرفة |
| | ٢ | المستشفيات ، المدارس ، مراكز التعليم والتدريب المهني ، وطرق النقل ، والمواصلات ، ومباني الخدمات الاعلامية ، والماء ، والكهرباء (يكتفى بذكر واحدة) | ١ | ٨٤ | معرفة |
| ثالثا | ١ | قارة أستراليا تظل على الخريطة .  عند إضافة الرمز (■) على الخريطة في قارة أستراليا تحسب الاجابة صحيحة | ١ | ٥٨ | فهم وتطبيق |
| | ٢ | نصف الكرة الأرضية الشمالي | ١ | ٥٩ | معرفة |

(٥)

تابع نموذج إجابة امتحان الصف السابع
للعام الدراسي ١٤٤٠/١٤٣٩ هـ - ٢٠١٨/٢٠١٩ م
الدور الاول - الفصل الدراسي الاول
المادة : الدراسات الاجتماعية

تابع ثانيا: إجابة الأسئلة المقالية :

| إجابة السؤال الخامس | | | | | |
|----------------------------|---------|---|--------|---------|-----------------|
| الدرجة الكلية: (٦) درجات | | | | | |
| الجزئية | المفردة | الإجابة الصحيحة | الدرجة | الصفحة | المستوى المعرفي |
| أولا | ١ | يدل على أن الانسان العماني عرف زراعة النخيل منذ العصور القديمة | ١ | ٢١ | فهم وتطبيق |
| ثانيا | ١ | انتقال السكان من مكان إلى آخر مع تغيير محل الإقامة ولو لفترة محدودة | ١ | ٥٤ | معرفة |
| | ٢ | هجرة داخلية | ١ | ٥٤ | معرفة |
| ثالثا | ١ | استخدام حزام الأمان | ١ | ٩٣ ، ٩٠ | فهم وتطبيق |
| | ٢ | حزام الأمان حماية للسائق والركاب ، ضرورة توعية أصحاب المركبات بالالتزام بربط حزام الأمان أثناء القيادة . (أي نصيحة تفيد في الحفاظ على سلامة راكبي المركبات) يتروك للطالب حرية الإجابة بما يفيد المعنى | ٢ | ٩٣ ، ٩٠ | قدرات عليا |

نهاية نموذج الإجابة